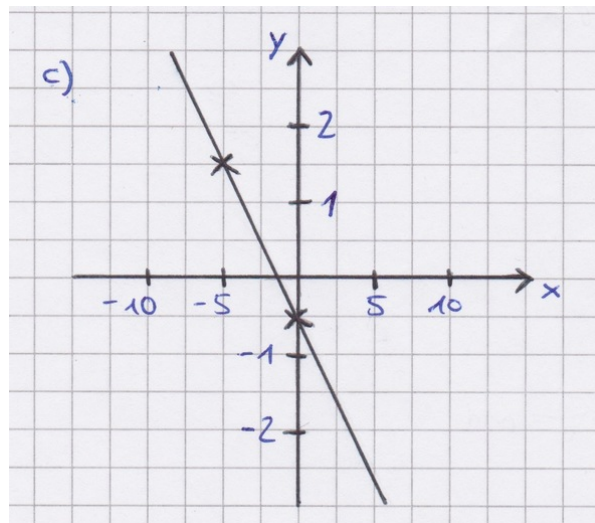
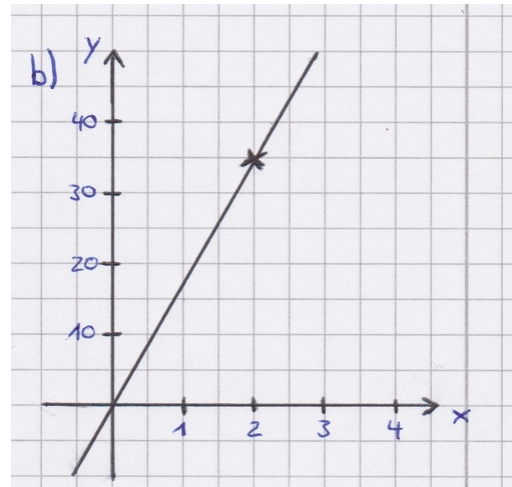
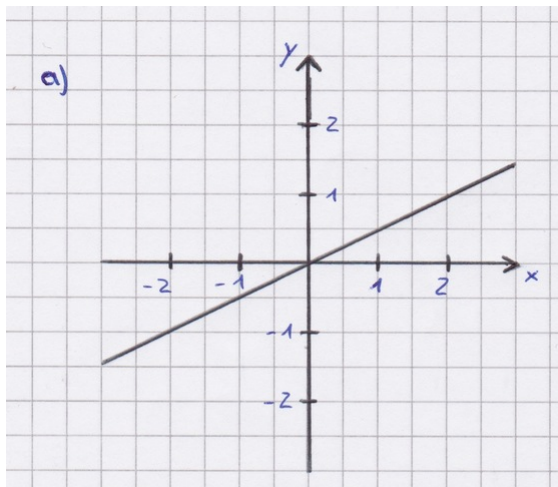


Aufgabe 1:

Finde zu folgenden linearen Funktionen eine passende Funktionsvorschrift der Form: $f(x) = mx + b$. Berechne m mithilfe des Steigungsdreiecks und der dazugehörigen Formel.

Aufgabe 2:

Zeichne nun das Steigungsdreieck bei den einzelnen Streckenabschnitten auf dem Arbeitsblatt "Wie schnell ist Usain Bolt?" ein und berechne die jeweilige Steigung. Was fällt Dir auf?

