


## ① Zahlen mit Material darstellen





Zeichne das Bild zu der Zahl.



Zahl	Bild
17	
52	
100	
88	

## ② Stellenwerte darstellen

a) Trage die Zahl in die Stellentafel ein und schreibe auf.

Bild	Stellentafel	Zahl						
	<table border="1"> <tr><td>H</td><td>Z</td><td>E</td></tr> <tr><td></td><td></td><td></td></tr> </table>	H	Z	E				
H	Z	E						
	<table border="1"> <tr><td>H</td><td>Z</td><td>E</td></tr> <tr><td></td><td></td><td></td></tr> </table>	H	Z	E				
H	Z	E						
	<table border="1"> <tr><td>H</td><td>Z</td><td>E</td></tr> <tr><td></td><td></td><td></td></tr> </table>	H	Z	E				
H	Z	E						
	<table border="1"> <tr><td>H</td><td>Z</td><td>E</td></tr> <tr><td></td><td></td><td></td></tr> </table>	H	Z	E				
H	Z	E						

b) Zu der Zahl 23 kommen 3 Zehner dazu. Welche Zahl ist es jetzt?  
Zeichne sie, trage sie in die Stellentafel ein und schreibe sie auf.

Bild	Stellentafel	Zahl						
	<table border="1"> <tr><td>H</td><td>Z</td><td>E</td></tr> <tr><td></td><td></td><td></td></tr> </table>	H	Z	E				
H	Z	E						