

★★☆ Zeichne in das Koordinatensystem folgende Punkte ein.

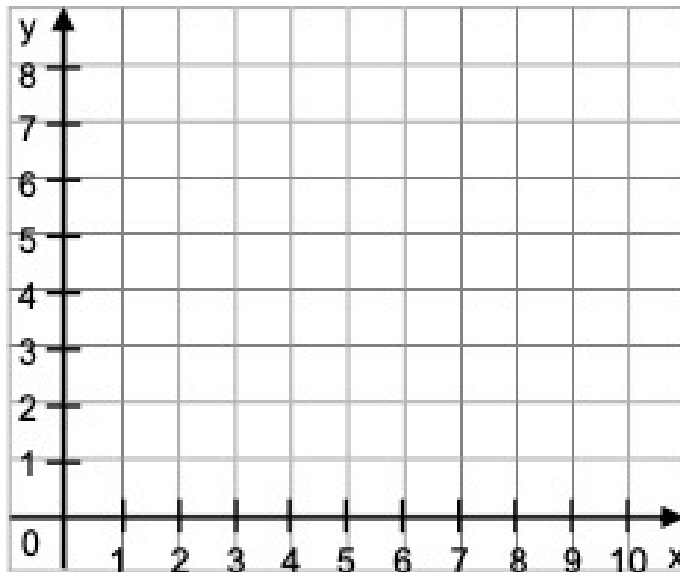
K 2

A ( 3 | 1 )

C ( 5 | 4 )

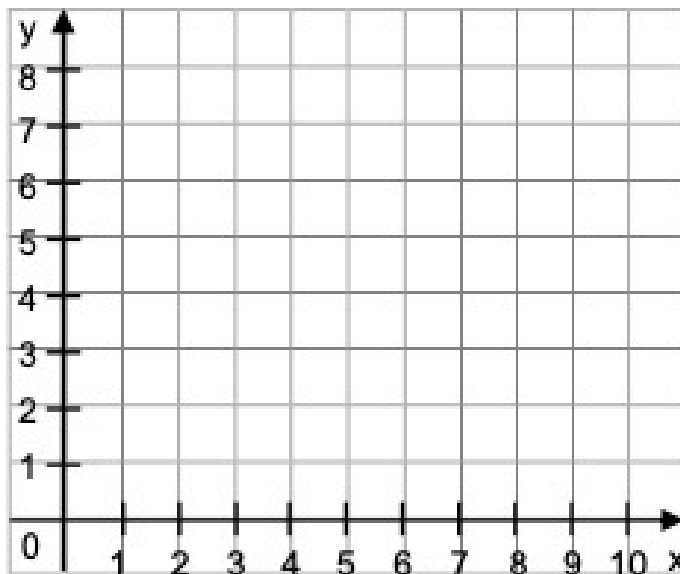
B ( 1 | 2 )

D ( 2 | 4 )



★★☆ Welche Punkte sind in dem Koordinatensystem eingezeichnet?  
Ergänze die Koordinaten:

K 5

A (  |  )C (  |  )B (  |  )D (  |  )

★★★ Zeichne ein Koordinatensystem mit einer x-Achse von 5cm und einer y-Achse von 5cm. Trage in dieses Koordinatensystem folgende Punkte ein.


K 8

A ( 3 | 1 )

C ( 5 | 4 )

B ( 1 | 2 )

D ( 2 | 4 )



★★★ Zeichne in das Koordinatensystem folgende Punkte ein:

A ( 0 | 0 )

B ( 1 | 1 )

C ( 3 | 3 )

K 11

- Kannst du die Punkte miteinander verbinden?
- Wie müsste der nächste Punkt heißen?

D (  |  )