

★★☆ Zeichne in das Koordinatensystem folgende Punkte ein.

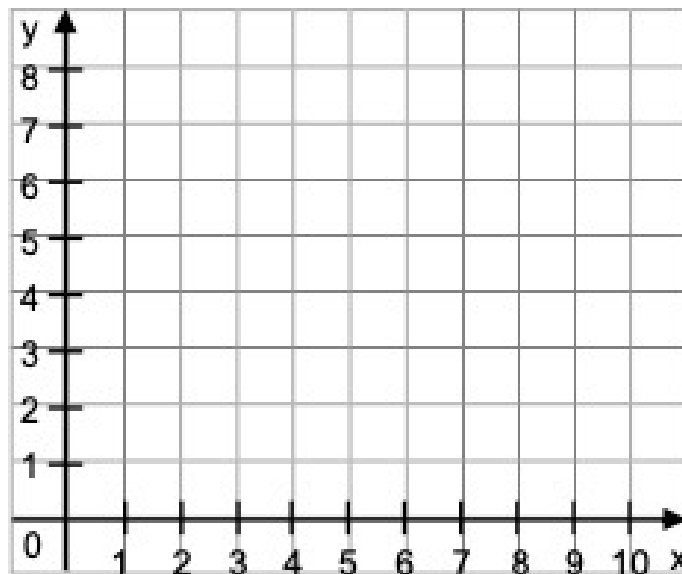
K 3

A (1 | 3)

C (5 | 3)

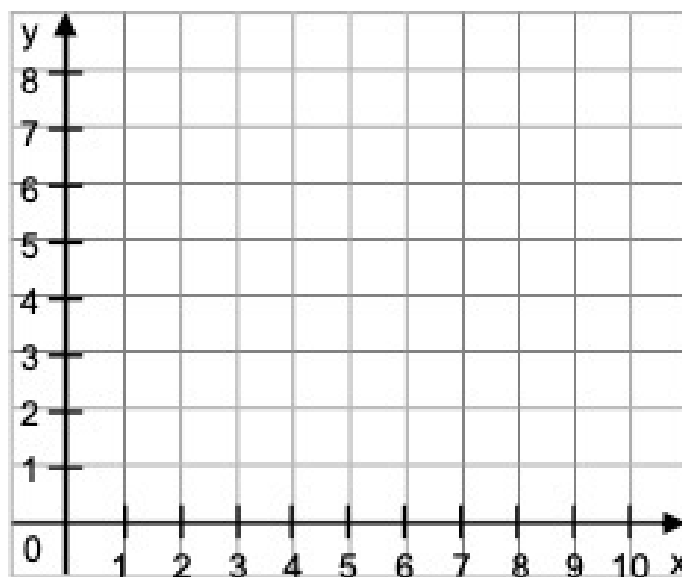
B (2 | 6)

D (7 | 9)



★★☆ Welche Punkte sind in dem Koordinatensystem eingezeichnet?
Ergänze die Koordinaten:

K 6

A (|)C (|)B (|)D (|)

★★★ Zeichne ein Koordinatensystem mit einer x-Achse von 5cm und einer y-Achse von 5cm. Trage in dieses Koordinatensystem folgende Punkte ein.


K 9

A (2 | 1)

C (3 | 4)

B (1 | 4)

D (2 | 2)



★★★ Zeichne in das Koordinatensystem folgende Punkte ein:

A (0 | 0)

B (2 | 2)

C (4 | 4)

K 12

- Kannst du die Punkte miteinander verbinden?
- Wie müsste der nächste Punkt heißen?

D (|)