
Seite 1 ist ohne Taschenrechner zu bearbeiten

① Berechne

/ 3

a) $37 + 19 =$

b) $92 + 93 =$

c) $40 + 63 =$

② Berechne!

/ 3

a) $12 - 24 =$

b) $100 - 3 =$

c) $73 - 15 =$

③ Berechne die Bruchteile.

/ 3

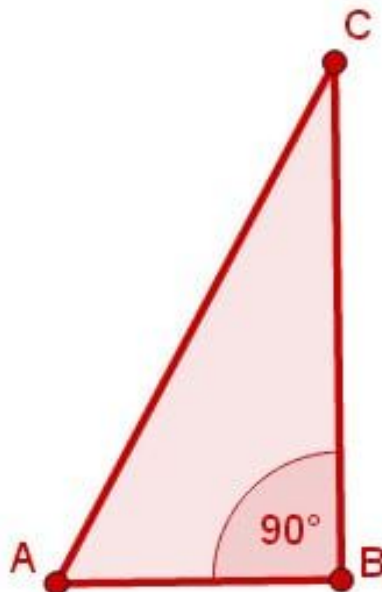
a) Die Hälfte von 1200 m =

b) Die Hälfte von 50 Euro =

c) Ein Viertel von 60 min =

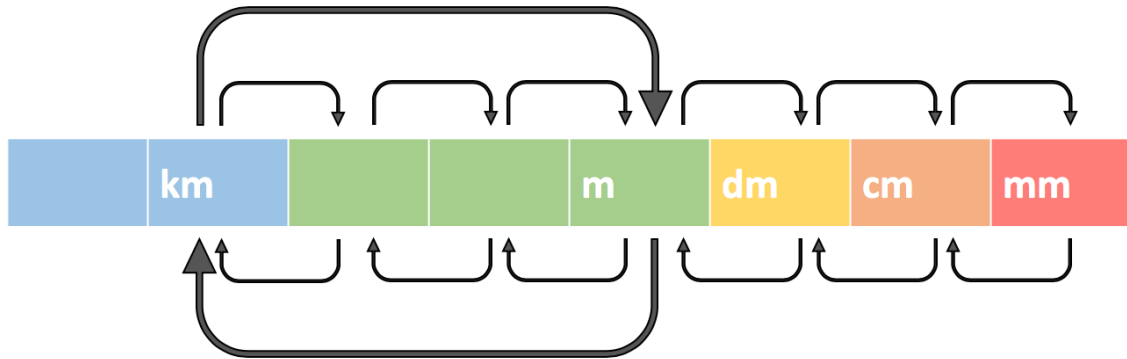
④ Zeichne die Figur halb so groß neben das Bild

/ 2



⑤ Beschrifte die Pfeile dieser Übersicht.

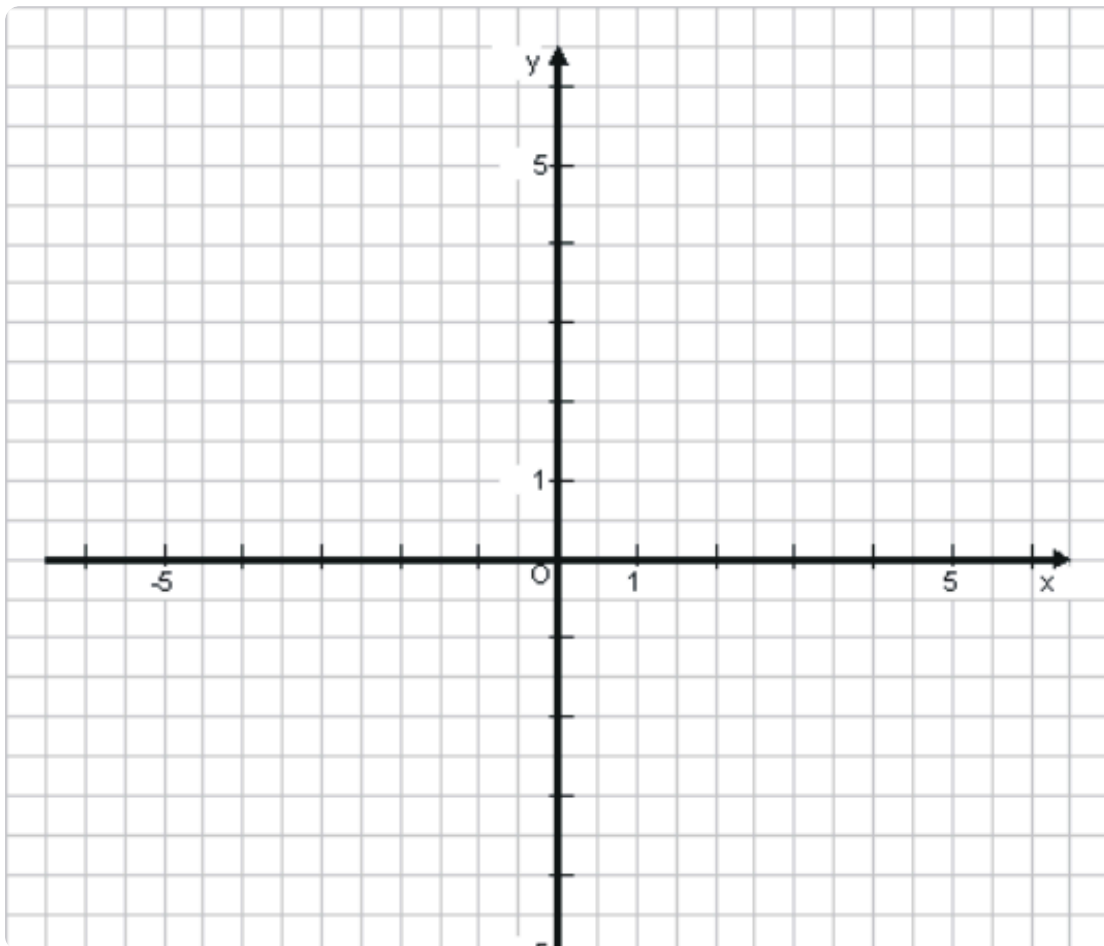
/ 3



⑥ Zeichne die Punkte $A(1 \mid 1)$, $B(5 \mid 1)$ und $C(3 \mid 4)$ in das Koordinatensystem.

/ 4

- Verbinde die Punkte zu einem Dreieck.
- Spiegele das Dreieck an der y -Achse.




⑦ Verschiebe das Dreieck um 6 cm nach rechts.

● / 3



⑧ Zeichne ein Muster und wiederhole es dreimal nebeneinander.

● / 3



Punkte: / 24

Prozent

Note