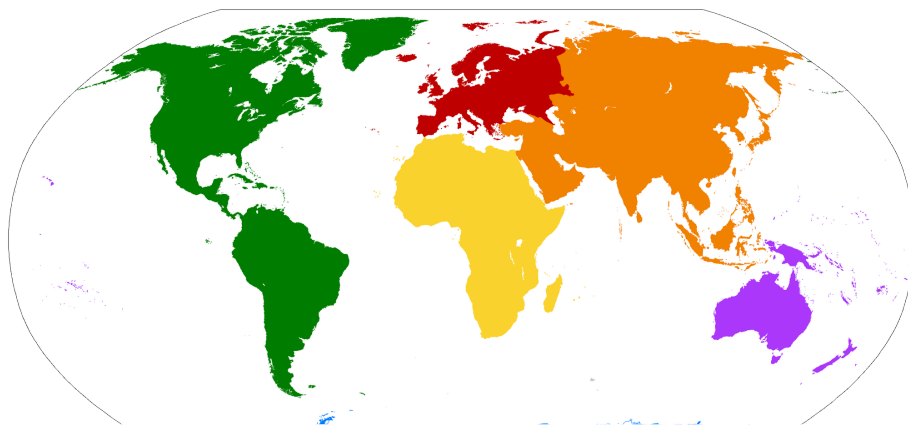


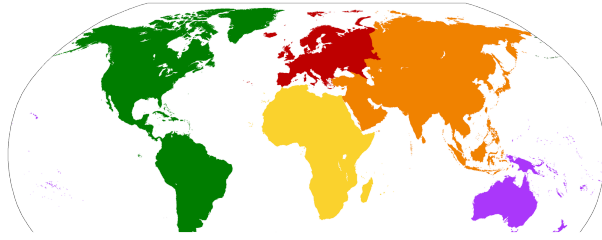
Frage 1: Welche Gestalt besitzt unsere Erde?
 1) Die Erde ist eine Scheibe.
 2) Die Erde besitzt eine kugelförmige Gestalt.
 Frage 2: Wie können wir uns auf der Erde orientieren? (Wähle eine oder mehr der folgenden):
 1) mithilfe von Satelliten
 2) mithilfe eines Dudens
 3) mithilfe eines Navigationssystems
 4) mithilfe eines Kompasses
 5) mithilfe des Gratnetzes
 6) mithilfe einer Kuh
 7) mithilfe eines Taschenrechners
 8) mithilfe des Internets (z.B. google maps)
 9) mithilfe einer Karte
 10) mithilfe von GPS
 Frage 3: Klicke auf jeden orangenen Punkt und wähle die korrekte Antwort. Beschrifte die Kontinente der Erde.



https://upload.wikimedia.org/wikipedia/commons/44f/Maailmajaod_pd.png

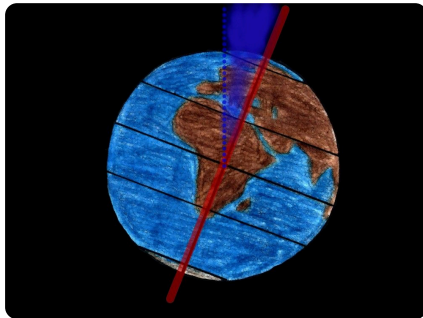
Antwortmöglichkeiten: Nordamerika, Südamerika, Afrika, Europa, Asien, Antarktis, Australien
 Aufklärung ist der Ausgang des Menschen aus seiner selbst verschuldeten Unmündigkeit. Unmündigkeit ist das Unvermögen, sich seines Verstandes ohne Leitung eines anderen zu bedienen.

Frage 4): Klicke auf jeden orangenen Punkt und wähle die korrekte Antwort. Beschrifte die Weltkarte mit den Namen der Ozeane.
 Abbildung:



https://upload.wikimedia.org/wikipedia/commons/44f/Maailmajaod_pd.png

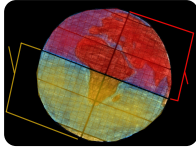
Antwortmöglichkeiten: Pazifik Pazifischer Ozean, Atlantik Atlantischer Ozean, Indik Indischer Ozean.
 Frage 5: Auf der Erde gibt es mehr Land als Wasser. Wähle eins der folgenden:
 Antwortmöglichkeiten: WAHR
 richtig: FALSCH
 Frage 6: Zu wie viel Grad (°) ist unsere Erde geneigt?
 Wähle eine der folgenden:



Neigung der Erde CC By laura.nie

Antwortmöglichkeiten: 1) ca. 23,5°
 2) ca. 21,5°
 3) ca. 19,5°
 4) ca. 30°
 richtig: 1)

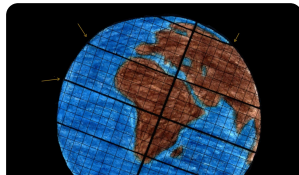
Frage 7: Klicke auf jeden orangenen Punkt und schreibe die korrekte Antwort. Wie nennt man die Hälften, die die Erde in zwei Halbkugeln einteilen? Beschrifte die Abbildung:



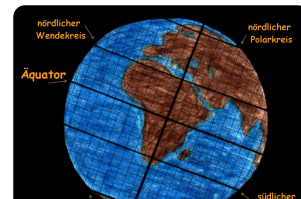
<https://www.flickr.com/photos/141735673@N0338165374865/>
in date posted-public

CC BY laura.nie gradnetz
unbeschriftet halbkugeln

Antwortmöglichkeiten: selbst die Lösung in ein Feld schreiben, keine Antwortmöglichkeiten.
> richtig: gelb: Südhalbkugel & rot: Nordhalbkugel
Frage 8: Beschrifte das Gradnetz. (Ziehe eine Antwort zum richtigen orangenen Punkt.)
Abbildung:
> richtig:



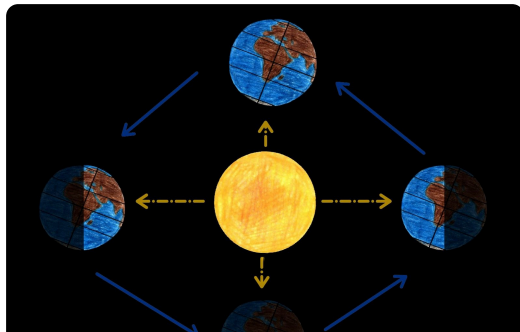
<https://www.flickr.com/photos/141735673@N0338337003134/>
in date posted-public
CC BY laura.nie gradnetz unbeschriftet



<https://www.flickr.com/photos/141735673@N0327270362719/>
in date posted-public
CC BY laura.nie gradnetz unbeschriftet

Antwortmöglichkeiten: Äquator, nördlicher Wendekreis, südlicher Wendekreis, nördlicher Polarkreis, südlicher Polarkreis
Frage 9: Wähle von der Dropdown-Liste, um den Text zu vervollständigen.
Text: Die Sonne und die Bewegung der Erde sind Ursache für Tag und Nacht. Innerhalb von 1264824 Stunden dreht sich die Erde einmal um die eigene Achse. Die Bewegung geht gegen den Uhrzeigersinn von Ost Süd Nord West nach West Ost Süd Nord. Durch die Bestrahlung des Mondes der Sonne der Erde und die Rotation der Erde Sonne ist es tagsüber hell und nachts dunkel. Da die Erde um ca. $23,5^\circ$ geneigt ist, sind die Tage auf der Welt unterschiedlich lang. Am Äquator sind die Tage zum Beispiel fast immer 12 Stunden lang. Vom Äquator aus zu den Polen ändert sich die Tages- und Nachtlänge.
> richtig:
1) 24
2) West
3) Ost
4) der Sonne
5) Erde
6) $23,5^\circ$
7) unterschiedliche

Frage 10: Wähle von der Dropdown-Liste, um den Text zu vervollständigen.
 Text: Die Sonne und die Bewegung der Erde sind Ursache für Jahreszeiten. Die Erde dreht sich innerhalb von zwei Jahren um die Sonne. Die Bewegung verläuft mit demgegen den Uhrzeigersinn. Diesen Vorgang nennt man Revolution. Die Position der Erde im Verhältnis zur Sonne bestimmt die Tageslänge sowie die Jahreszeit. Eine Besonderheit ist, dass sich die Jahreszeiten auf Nord- und Südhalbkugel gleich unterscheiden. Wenn wir in Deutschland Sommer haben, ist in Australien, auf der Südhalbkugel, Winter. Ursache dafür ist der Einstrahlungswinkel der Sonne.
 1) Erde
 2) einem Jahr
 3) Sonne
 4) gegen den
 5) Revolution
 6) unterscheiden
 7) Winter
 8) der Sonne
 Frage 11: Beschrifte, wannes in Deutschland Frühling, Sommer Herbst und Winter ist. (Ziehe eine Antwort zum richtigen orangen Punkt.)
 Antwortmöglichkeiten: Winter, Sommer, Frühling, Herbst
 oben: Winter
 links: Frühling
 rechts: Herbst
 unten: Sommer



<https://www.flickr.com/photos/141735673@N0339046963101/in/dateposted-public>

CC By laura.niei revolution der erde