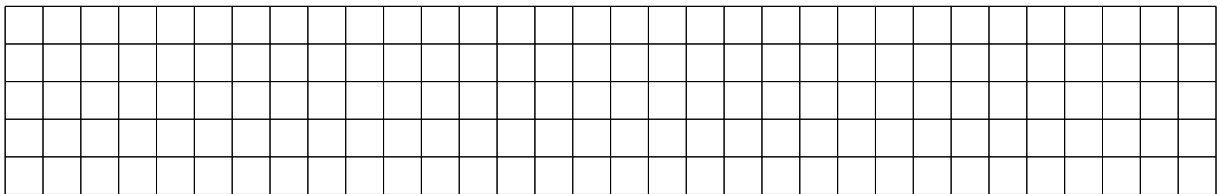


- ① ★★★☆ Recherchiert in Eurer Lerngruppe zu den Begriffen „Gerade“, „Strecke“ und „Halbgerade“.

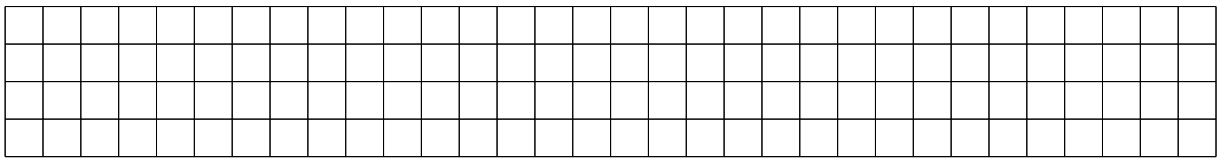
Beantwortet hierzu die Fragen unter dem folgenden Link:
t1p.de/gsp1



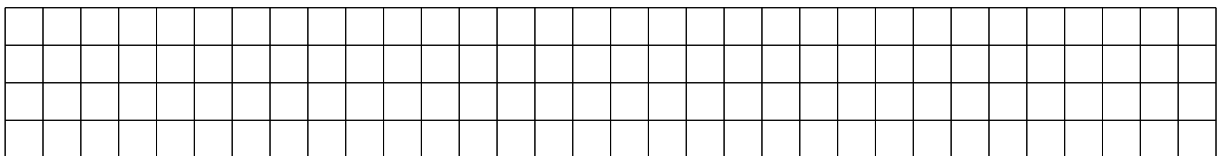
- ② ★★★☆ Zeichne eine beliebige **Gerade**. Verwende für die Beschriftung der Punkte und Gerade die Buchstaben A, B und g.



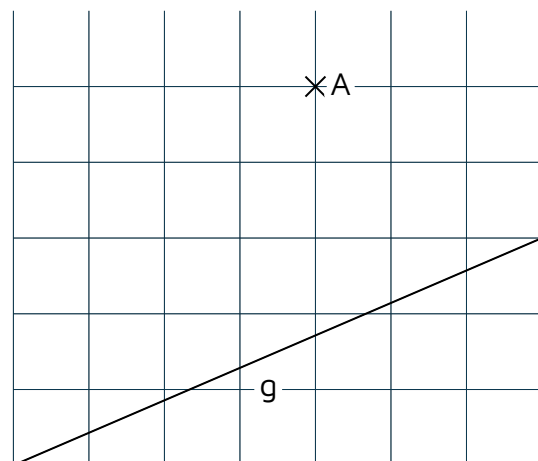
- ③ ★★★☆ Zeichne eine beliebige **Strecke**. Verwende für die Beschriftung der Punkte und Gerade die Buchstaben A, B und s.



- ④ ★★★☆ Zeichne eine beliebige **Halbgerade**. Verwende für die Beschriftung der Punkte und Gerade die Buchstaben A, B und h.



- ⑤ ★★★☆ Bestimme den Abstand des Punktes von der Geraden.



- ⑥ ★★★☆ Inga ist stolz auf sich. Sie hat es geschafft aus Geraden einen Kreis zu zeichnen. Wie hat Sie dies wohl gemacht? Versuche es selbst.