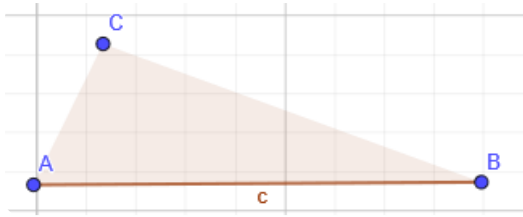
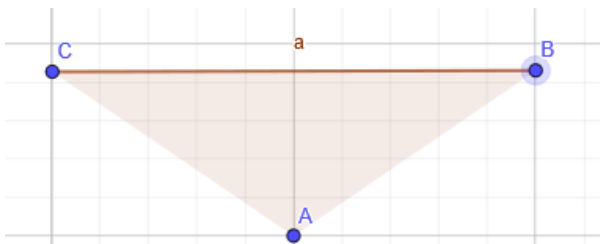
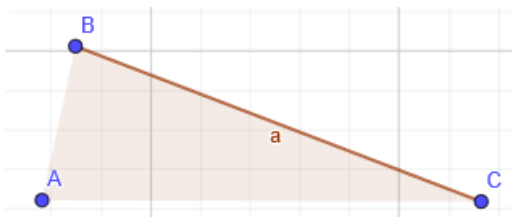
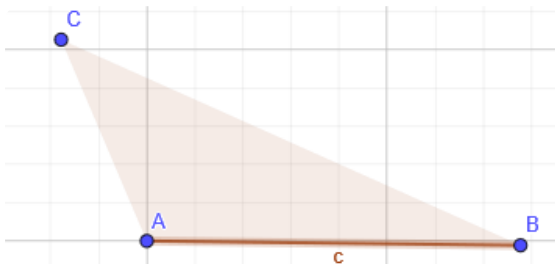
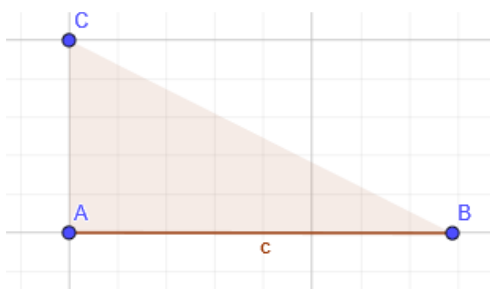


- ① Bestimme die Art des Dreiecks (rechtwinklig, spitzwinklig stumpfwinklig), kreuze an.
 ② Zeichne die Höhe zur markierten Seite ein und miss die Länge der Höhe.

stumpfwinklig rechtwinklig spitzwinklig Länge der Höhe $h_c =$ stumpfwinklig rechtwinklig spitzwinklig Länge der Höhe $h_c =$ stumpfwinklig rechtwinklig spitzwinklig Länge der Höhe $h_c =$ stumpfwinklig rechtwinklig spitzwinklig Länge der Höhe $h_c =$ stumpfwinklig rechtwinklig spitzwinklig Länge der Höhe $h_c =$