

• Zeichne in das Koordinatensystem folgende Punkte ein.

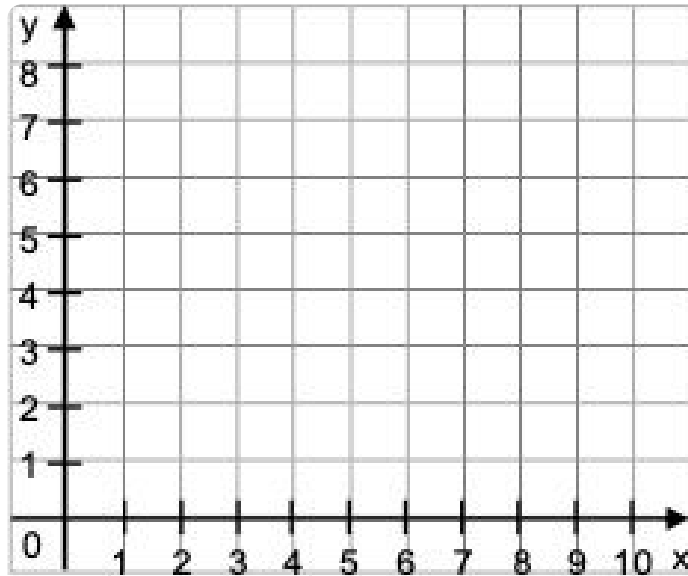
K 4

A ( 1 | 5 )

C ( 4 | 4 )

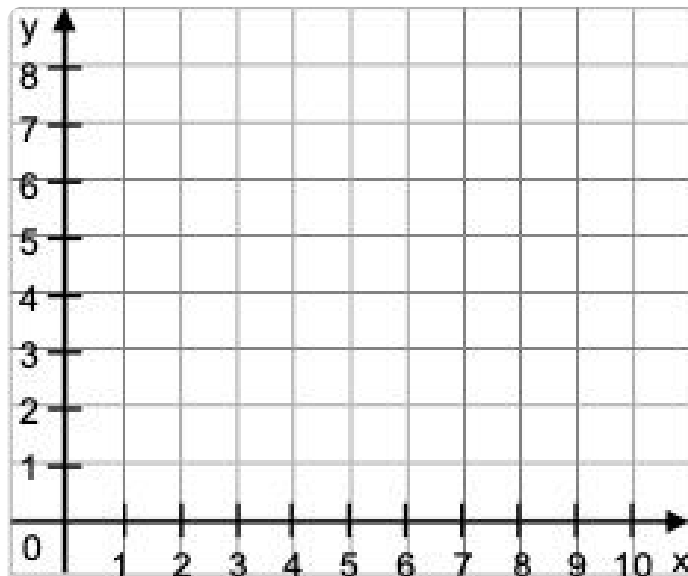
B ( 2 | 9 )

D ( 10 | 3 )



• Welche Punkte sind in dem Koordinatensystem eingezeichnet?  
Ergänze die Koordinaten:

K 7


A (  |  )C (  |  )B (  |  )D (  |  )

- Zeichne ein Koordinatensystem mit einer x-Achse von 5cm und einer y-Achse von 5cm. Trage in dieses Koordinatensystem folgende Punkte ein.

K 10

A ( 2 | 1 )  
B ( 1 | 4 )

C ( 3 | 4 )  
D ( 2 | 2 )



- Zeichne in das Koordinatensystem folgende Punkte ein:

A ( 0 | 0 )  
B ( 2 | 2 )  
C ( 4 | 4 )

K 13

- Kannst du die Punkte miteinander verbinden?
- Wie müsste der nächste Punkt heißen?

D (  |  )

