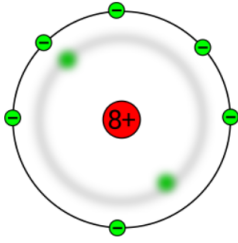
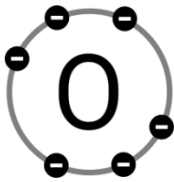

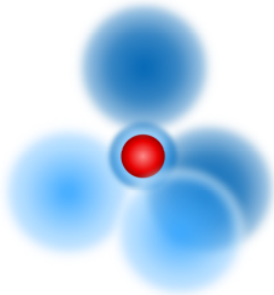


- ① Halte entsprechend des Videos die Notizen fest, wie wir das Modell des Sauerstoff-Atoms weiterentwickeln.

Name der Darstellung: Name der Darstellung: Name der Darstellung: Name der Darstellung: Name der Darstellung: Name der Darstellung: