




- ③ **Nutze** die **Informationen aus** dem **2. Erklärvideo** und **zeichne** die Winkel in der **angegebenen Weite nach**.

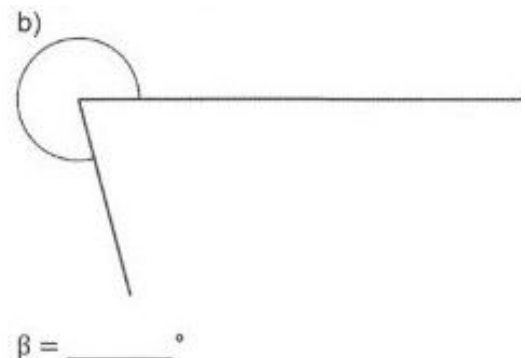
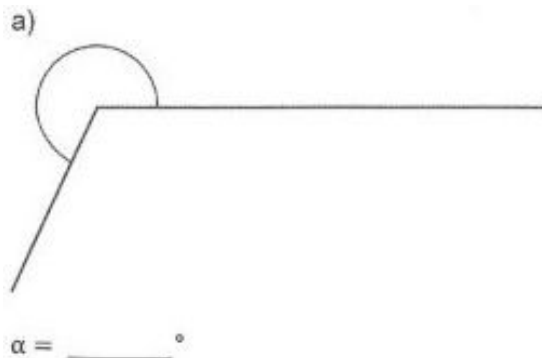
$$\alpha = 72^\circ$$

$$\beta = 108^\circ$$

$$*\gamma = 145^\circ$$



- ④ **Nutze** die **Informationen aus** dem **3. Erklärvideo** und **messe** die **gesuchten Winkel**.



- ⑤ **Nutze** die **Informationen aus** dem **3. Erklärvideo** und **zeichne** Winkel mit der **angegebenen Weite ein**.

$$\alpha = 270^\circ$$

$$\beta = 333^\circ$$

$$*\gamma = 201^\circ$$

