


Punkte: / 11½

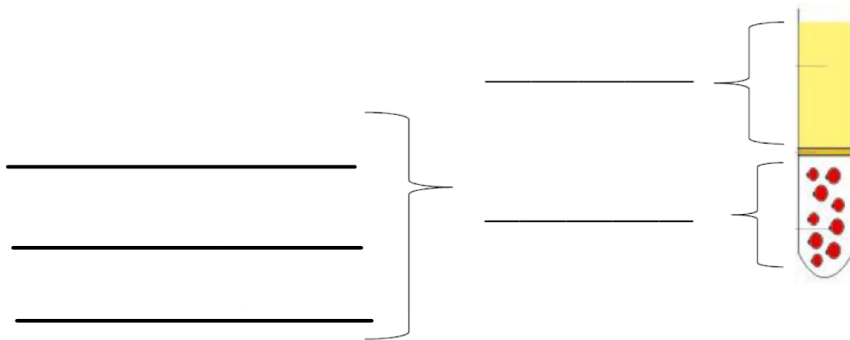
Note:

Unterschrift der Eltern:

 Zusatzpunkt, wenn die **korrekten Fachbegriffe für die Blutbestandteile** genannt werden.

① **Beschrifte die Abbildung mit den passenden 5 Begriffen.**

/ 2½



② **Welcher Blutbestandteil ist der grösste?**

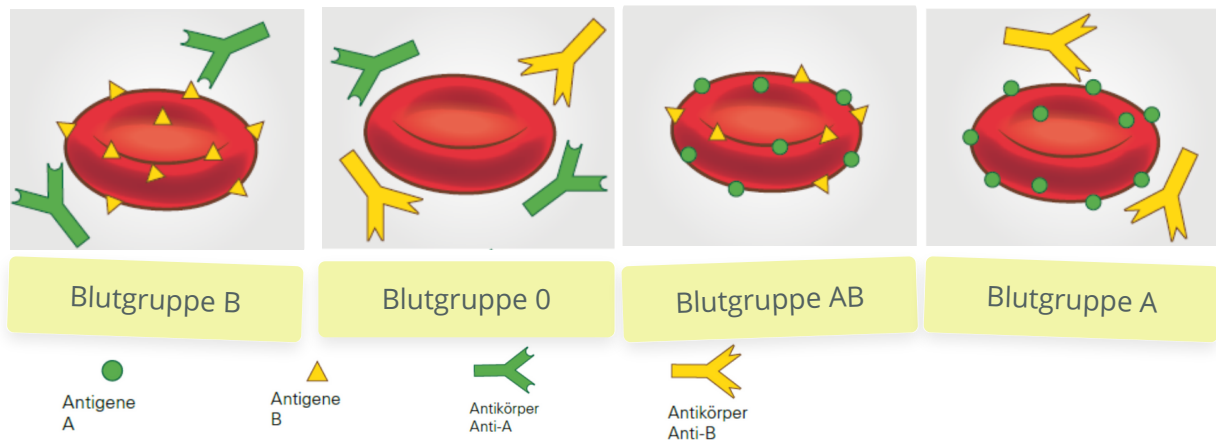
/ 1

③ **Nenne in Stichworten die Aufgaben der einzelnen Blutbestandteile.**

/ 3

Blutbestandteil	Aufgabe





④ Welche Blutgruppe ist **Universalspender** (wer kann allen spenden)? / 1

- A
- B
- AB
- 0

⑤ Welche Blutgruppe ist **Universalempfänger** (wer kann jede Blutgruppe empfangen)? / 1

- A
- B
- AB
- 0

⑥ Leo hat Blutgruppe 0. Er braucht eine Bluttransfusion. Wer kommt als **Blutspender/in** in Frage? / 1

- Marko L. (Blutgruppe A)
- Noëmi (Blutgruppe B)
- Ruven (Blutgruppe AB)
- Gjonzef (Blutgruppe 0)

⑦ **Weshalb gab es früher bei Bluttransfusionen sehr viele Todesfälle? Erkläre dies mit den Begriffen „Antikörper“ und „rote Blutkörperchen“.** / 2

---



---



---



---



---