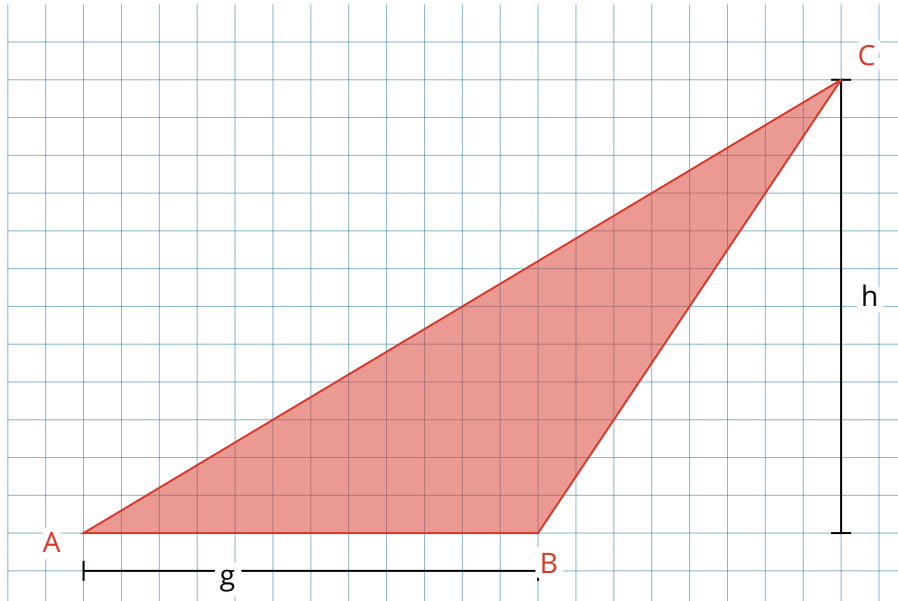


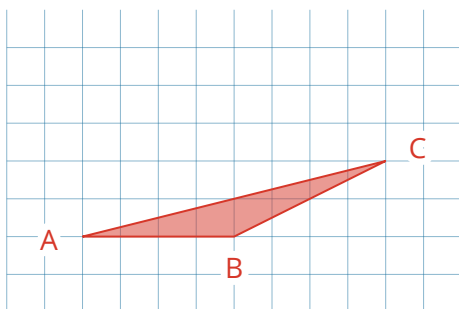
## Höhe nicht im Dreieck - Was dann?

- ① Überprüfe, ob man mit der Grundseite  $g$  und der Höhe  $h$  auch die Fläche des Dreiecks berechnen kann, wenn die Höhe nicht im Dreieck ist. Fülle dazu die Tabelle aus.



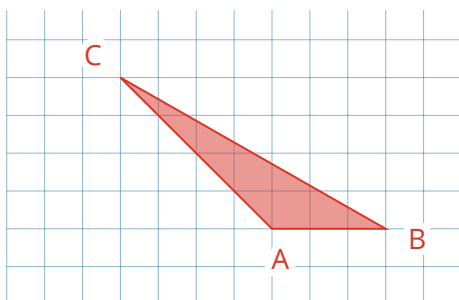
Seite	Länge der Seite	zugehörige Höhe	Flächeninhalt
$\overline{AB}$	6 cm	6 cm	
$\overline{AC}$			

- ② Berechne den Flächeninhalt der Dreiecke, indem du nur die Grundseite  $g$  und die Höhe  $h$  misst.



Rechnung

Grid area for calculation.



Rechnung

Grid area for calculation.