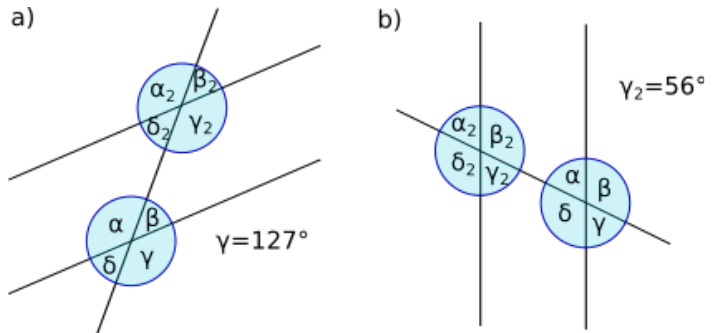
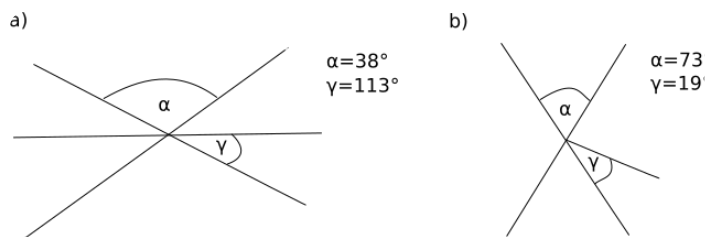


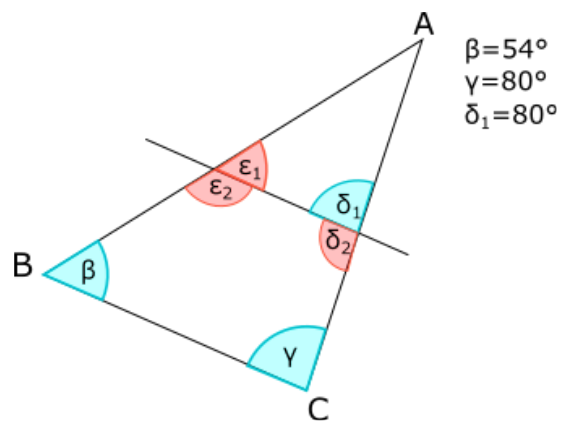
- ① Berechne die fehlenden Winkel ausgehend vom gegebenen Winkel γ .



- ② Benenne die fehlenden Winkel sinnvoll und berechne sie ausgehend von den gegebenen Winkeln.



- ③ Berechne die rot markierten Winkel.



- ④ Berechne die rot markierten Winkel.

