

☺ Zeichne in das Koordinatensystem folgende Punkte ein.

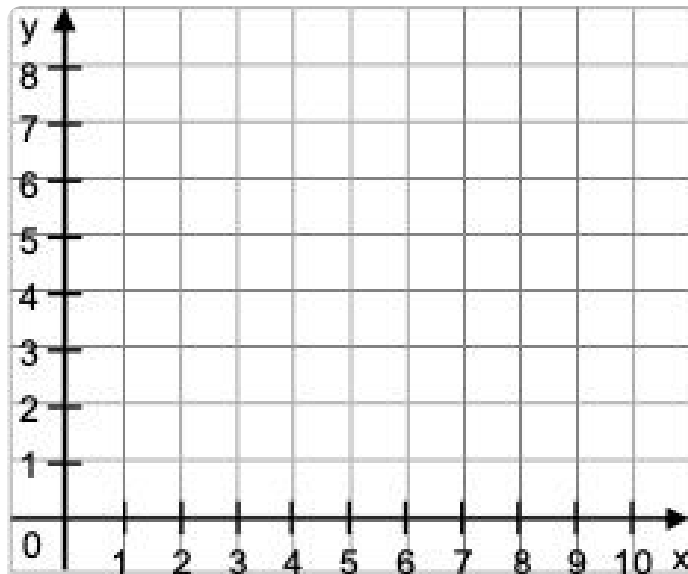
A (3 | 1)

C (5 | 4)

B (1 | 2)

D (2 | 4)

pK
2/p



☺ Welche Punkte sind in dem Koordinatensystem eingezeichnet?
Ergänze die Koordinaten:

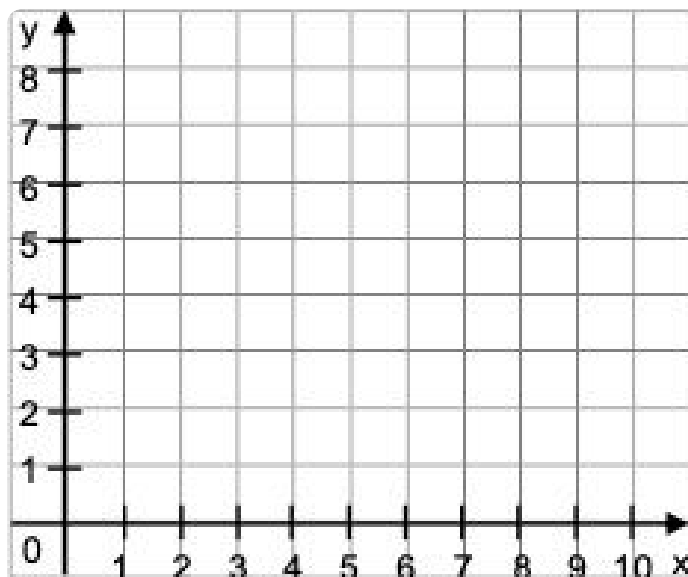
A (|)

C (|)


B (|)

D (|)

pK
5/p



- Zeichne ein Koordinatensystem mit einer x-Achse von 5cm und einer y-Achse von 5cm. Trage in dieses Koordinatensystem folgende Punkte ein.

pK
8/pA (3 | 1)
B (1 | 2)C (5 | 4)
D (2 | 4)

- Zeichne in das Koordinatensystem folgende Punkte ein:

A (0 | 0)
B (1 | 1)
C (3 | 3)

pK 11/p

- Kannst du die Punkte miteinander verbinden?
- Wie müsste der nächste Punkt heißen?

D (|)