

① **Kantone der Schweiz - Lage 1**

/ 12

Gib an, um welche Kantone es sich bei den abgefragten Nummern handelt!
(siehe Karte unten)

Nr. 1: _____

Nr. 4: _____

Nr. 7: _____

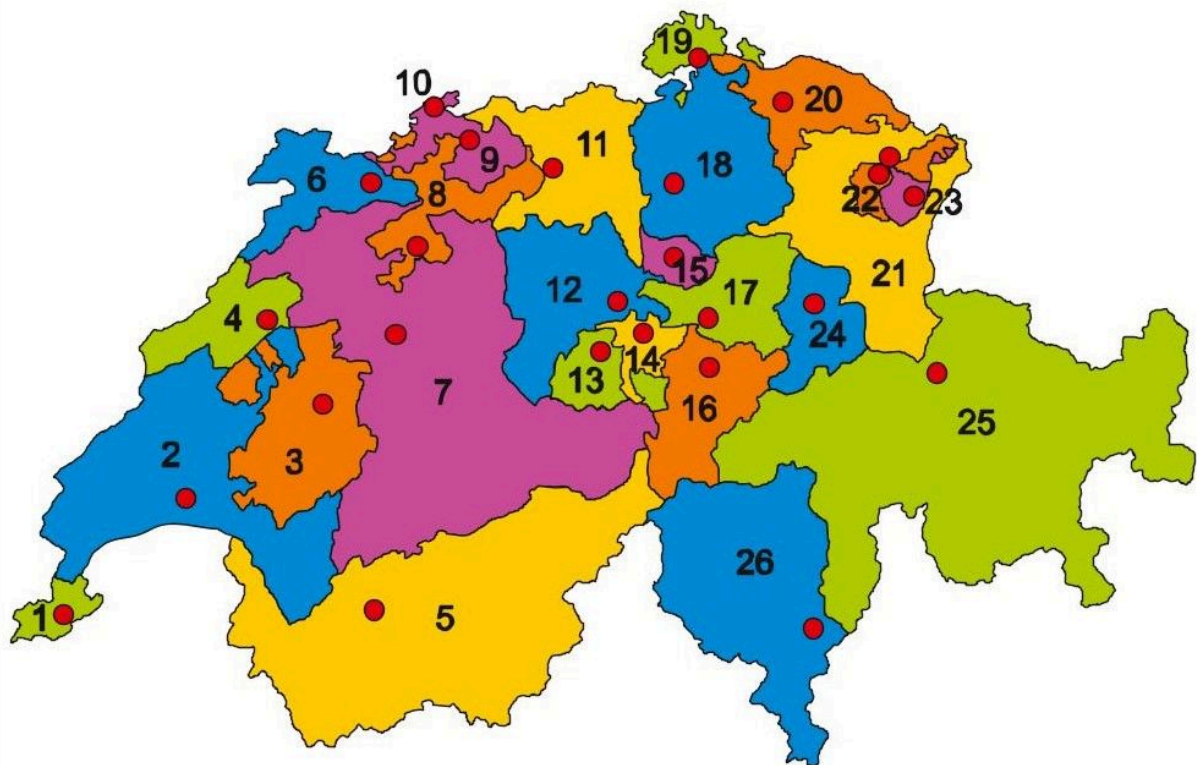
Nr. 11: _____

Nr. 14: _____

Nr. 18: _____

Nr. 21: _____

Nr. 25: _____

② **Kantone der Schweiz - Lage 2**

/ 8

Gib an, welche Nummer zu den abgefragten Kantonen gehört! (siehe Karte oben)

Zürich: _____

Solothurn: _____

Luzern: _____

Schaffhausen: _____

Tessin: _____

Jura: _____

Fribourg: _____

Glarus: _____

③ Kantone der Schweiz - Lage 3

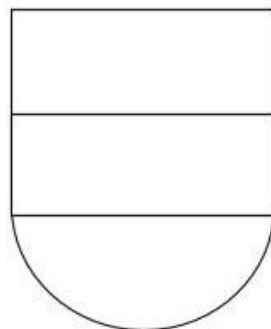

/ 6

Gib zu weiteren (in Aufgabe 1 und 2 nicht genannten) 4 Kantonen den Namen und die zugehörige Nummer an! (siehe Karte auf der Vorderseite)

④ Kantone der Schweiz - Wappen 1

/ 12

Gib zu den abgebildeten Wappen den zugehörigen Kanton an!



⑤ Kantone der Schweiz - Wappen 2

/ 5

Male die zwei Wappen korrekt aus und gib jeweils den Kanton an!



Punkte: / 43

Note