

① **Kantone der Schweiz - Lage 1**

/ 12

Gib an, um welche Kantone es sich bei den abgefragten Nummern handelt!  
(siehe Karte unten)

Nr. 1: \_\_\_\_\_

Nr. 4: \_\_\_\_\_

Nr. 7: \_\_\_\_\_

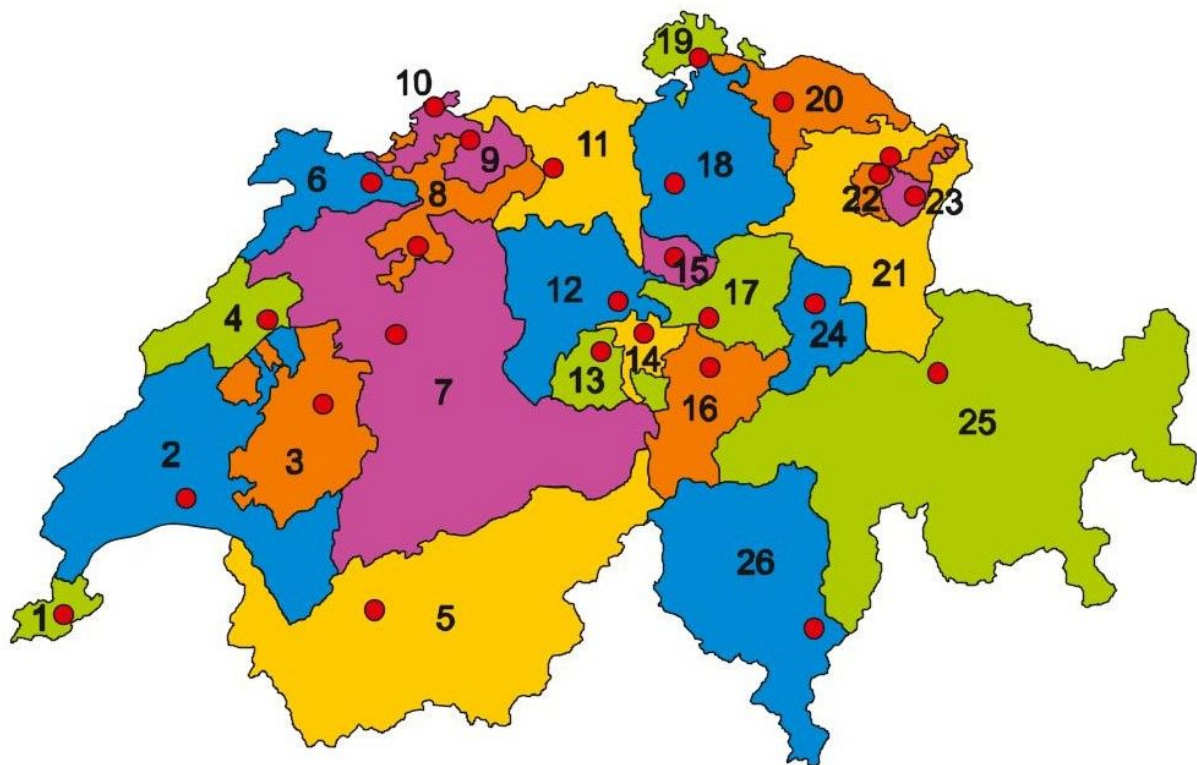
Nr. 11: \_\_\_\_\_

Nr. 14: \_\_\_\_\_

Nr. 18: \_\_\_\_\_

Nr. 21: \_\_\_\_\_

Nr. 25: \_\_\_\_\_

② **Kantone der Schweiz - Lage 2**

/ 8

Gib an, welche Nummer zu den abgefragten Kantonen gehört! (siehe Karte oben)

Zürich: \_\_\_\_\_

Solothurn: \_\_\_\_\_

Luzern: \_\_\_\_\_

Schaffhausen: \_\_\_\_\_

Tessin: \_\_\_\_\_

Jura: \_\_\_\_\_

Fribourg: \_\_\_\_\_

Glarus: \_\_\_\_\_

③ Kantone der Schweiz - Lage 3

/ 6

Gib zu weiteren (in Aufgabe 1 und 2 nicht genannten) 4 Kantonen den Namen und die zugehörige Nummer an! (siehe Karte auf der Vorderseite)

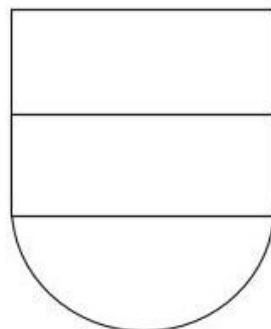

\_\_\_\_\_

\_\_\_\_\_

④ Kantone der Schweiz - Wappen 1

/ 12

Gib zu den abgebildeten Wappen den zugehörigen Kanton an!



⑤ Kantone der Schweiz - Wappen 2

/ 5

Male die zwei Wappen korrekt aus und gib jeweils den Kanton an!



Punkte: / 43      Note