

☉ Zeichne in das Koordinatensystem folgende Punkte ein.

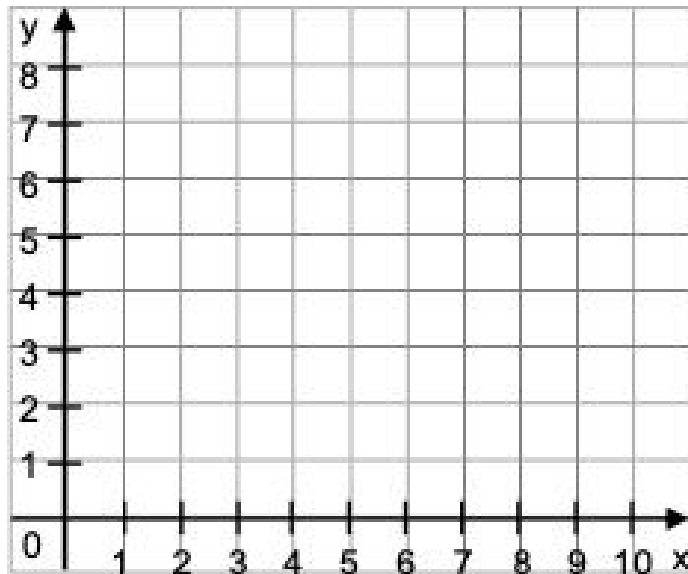
K 2

A (3 | 1)

C (5 | 4)

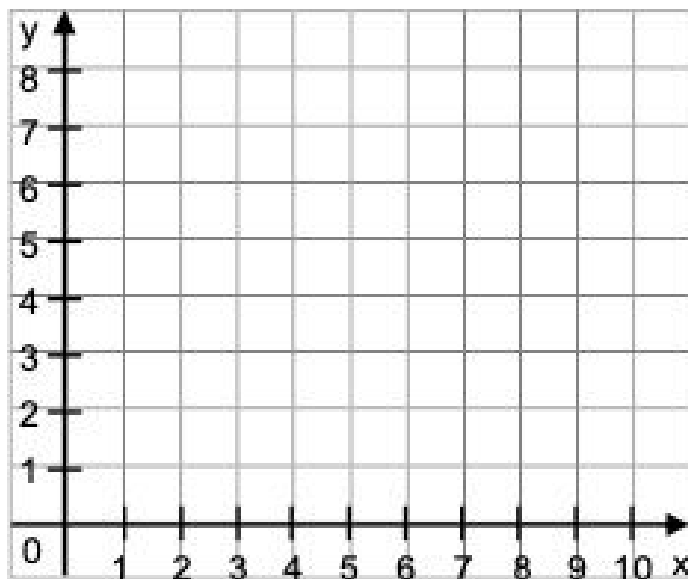
B (1 | 2)

D (2 | 4)



☉ Welche Punkte sind in dem Koordinatensystem eingezeichnet?
Ergänze die Koordinaten:

K 5


A (|)C (|)B (|)D (|)

- Zeichne ein Koordinatensystem mit einer x-Achse von 5cm und einer y-Achse von 5cm. Trage in dieses Koordinatensystem folgende Punkte ein.

K 8

A (3 | 1)
B (1 | 2)

C (5 | 4)
D (2 | 4)



- Zeichne in das Koordinatensystem folgende Punkte ein:

A (0 | 0)
B (1 | 1)
C (3 | 3)

K 11

- Kannst du die Punkte miteinander verbinden?
- Wie müsste der nächste Punkt heißen?

D (|)

