


① Berechne die folgenden Brüche. Kürze das Ergebnis, wenn möglich. / 8

$$\frac{5}{14} \cdot \frac{2}{15}$$

$$\frac{2}{6} \cdot \frac{2}{6}$$

$$\frac{9}{24} \cdot \frac{5}{24}$$

$$\frac{7}{18} \cdot \frac{3}{28}$$




② Berechne die folgenden Brüche. Kürze das Ergebnis, wenn möglich. / 8

$$\frac{4}{15} \div \frac{2}{5}$$

$$\frac{5}{6} \div \frac{1}{6}$$

$$\frac{9}{24} \div \frac{21}{24}$$

$$\frac{7}{75} \div \frac{14}{15}$$




③ Berechne die folgenden Brüche. Kürze das Ergebnis, wenn möglich. / 8

$$3\frac{3}{10} \cdot \frac{5}{11}$$

$$5\frac{5}{8} \cdot 2\frac{2}{9}$$

$$4\frac{1}{2} \div \frac{3}{4}$$

$$6\frac{2}{9} \div 1\frac{2}{5}$$



Note

Punkte: / 24

Unterschrift