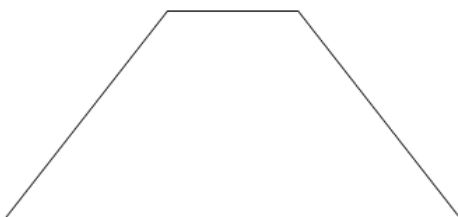
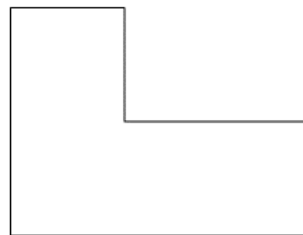
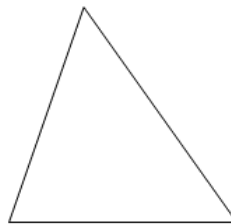
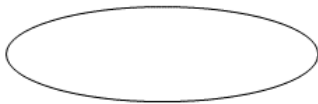
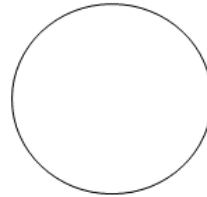


- ① Ergänzen Sie jede Fläche zu einer räumlichen Darstellung.



- ② Markieren Sie jede Figur, die ein Prisma ist mit einem **P**.

- ③ Markieren Sie bei jedem Prisma die Körperhöhe.