




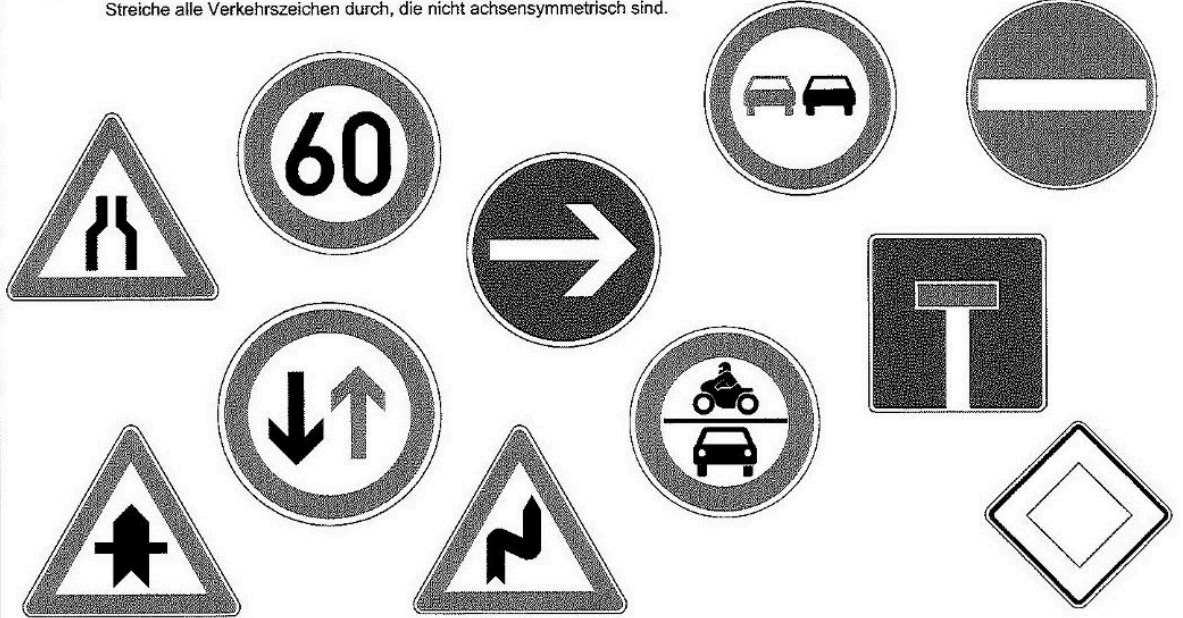

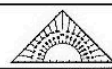







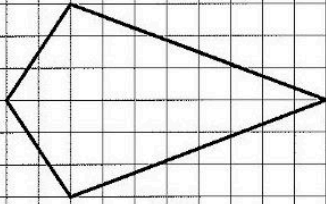
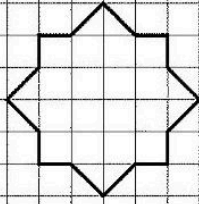
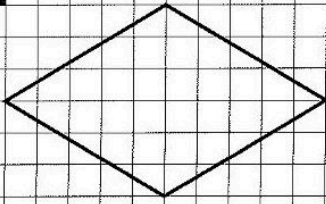
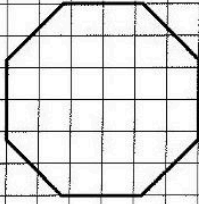

Station     

Achsensymmetrische Figuren
 Streiche alle Verkehrszeichen durch, die nicht achsensymmetrisch sind.



Station      

Symmetrieachsen
 Zeichne in die Figuren jeweils alle Symmetrieachsen ein.

<p>A</p> 	<p>B</p> 	<p>C</p> 
<p>D</p> 	<p>E</p> 	<p>F</p> 

Station

Ansichten von Würfelgebäuden

Wie sehen die Würfelgebäude aus der angegebenen Sicht aus? Färbe die entsprechenden Kästchen.

The station contains seven 3D structures made of cubes, labeled A through G. Each structure is shown from a perspective view, and an arrow points to a 4x4 grid where the student is to draw the corresponding 2D view from that angle.

Station

Längenmessung mit dem Geodreieck

Rudi Radler fährt mit dem Rad nach Hause. Er kann ganz verschiedene Wege einschlagen. Nimm einmal ein Geodreieck und miss die vorgeschlagenen Wege nach. 1 cm entspricht dabei genau einem Kilometer. Findest du den kürzesten Weg?

Weg von ... nach	Einzellängen			Gesamtlänge
ACEH	AC	CE	EH	km
ABGH	AB	BG	GH	km
ABEH	AB	BE	EH	km