

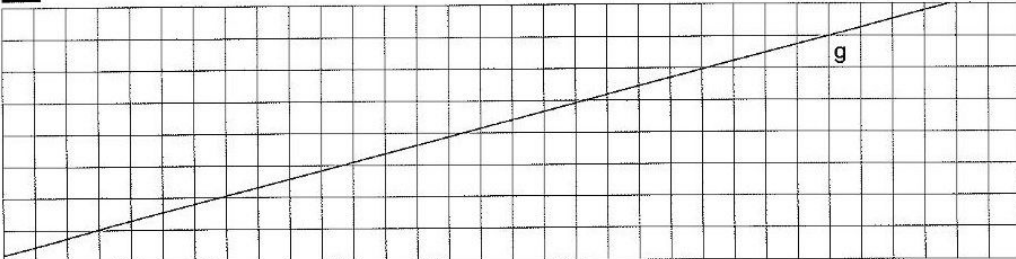


## Station

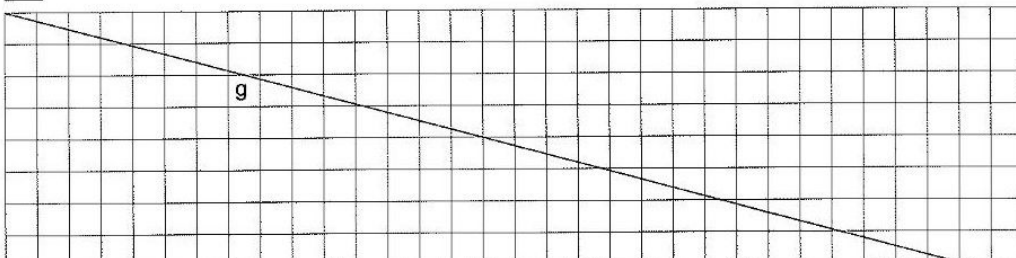




### Parallel und senkrecht

**A** Zeichne mit dem Geodreieck vier Geraden, die parallel zu g sind.





**B** Zeichne mit dem Geodreieck vier Geraden, die zu g senkrecht sind.



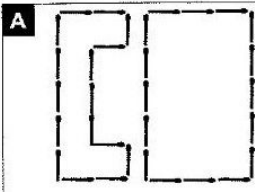
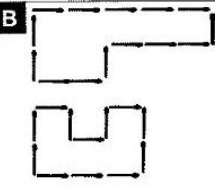
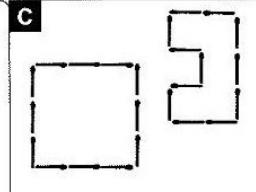
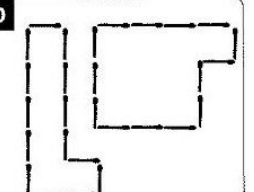
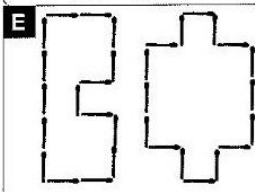
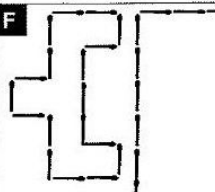




## Station


### Umfänge von Figuren


Sind die Umfänge der einzelnen Figuren gleich? Kreuze an. Die Buchstaben der richtigen Antworten ergeben ein Lösungswort.

<b>A</b>  <input type="checkbox"/> ja <input type="checkbox"/> nein	<b>B</b>  <input type="checkbox"/> ja <input type="checkbox"/> nein	<b>C</b>  <input type="checkbox"/> ja <input type="checkbox"/> nein	<b>D</b>  <input type="checkbox"/> ja <input type="checkbox"/> nein														
<b>E</b>  <input type="checkbox"/> ja <input type="checkbox"/> nein	<b>F</b>  <input type="checkbox"/> ja <input type="checkbox"/> nein	<b>G</b>  <input type="checkbox"/> ja <input type="checkbox"/> nein	<b>Lösungswort:</b> <table style="width: 100%; border-collapse: collapse;"> <tr> <td style="border: 1px solid black; padding: 2px;"><b>A</b></td> <td style="border: 1px solid black; padding: 2px;"><b>B</b></td> <td style="border: 1px solid black; padding: 2px;"><b>C</b></td> <td style="border: 1px solid black; padding: 2px;"><b>D</b></td> <td style="border: 1px solid black; padding: 2px;"><b>E</b></td> <td style="border: 1px solid black; padding: 2px;"><b>F</b></td> <td style="border: 1px solid black; padding: 2px;"><b>G</b></td> </tr> <tr> <td style="border: 1px solid black; width: 20px; height: 20px;"></td> <td style="border: 1px solid black; width: 20px; height: 20px;"></td> <td style="border: 1px solid black; width: 20px; height: 20px;"></td> <td style="border: 1px solid black; width: 20px; height: 20px;"></td> <td style="border: 1px solid black; width: 20px; height: 20px;"></td> <td style="border: 1px solid black; width: 20px; height: 20px;"></td> <td style="border: 1px solid black; width: 20px; height: 20px;"></td> </tr> </table>	<b>A</b>	<b>B</b>	<b>C</b>	<b>D</b>	<b>E</b>	<b>F</b>	<b>G</b>							
<b>A</b>	<b>B</b>	<b>C</b>	<b>D</b>	<b>E</b>	<b>F</b>	<b>G</b>											



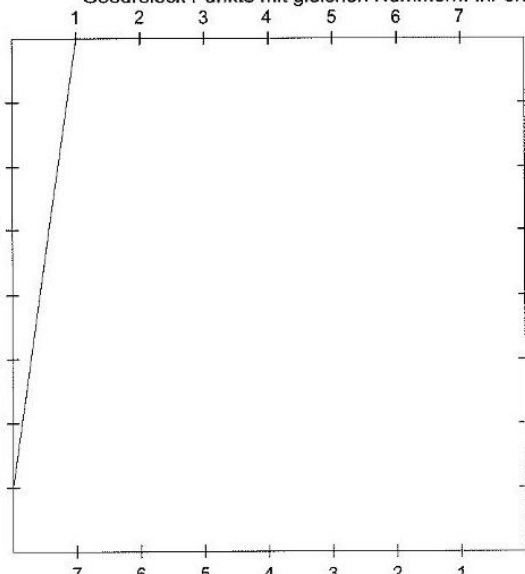
**Station**

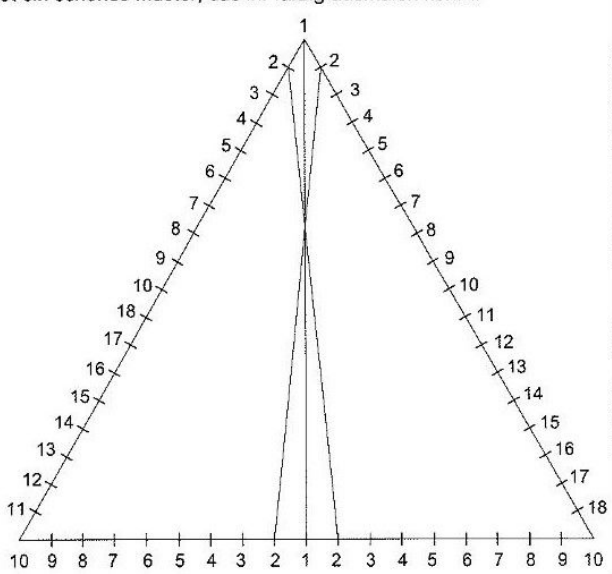





**Hüllkurven**


Verbindet in dem Viereck bei den *benachbarten* Seiten und in dem gleichseitigen Dreieck *über Kreuz* mit dem Geodreieck Punkte mit gleichen Nummern. Ihr erhaltet ein schönes Muster, das ihr farbig ausmalen könnt.








**Station**





**Spiegeln im Gitternetz**

Zeichne jeweils die Spiegelbilder.

<b>A</b>	<b>B</b>	<b>C</b>
<b>D</b>	<b>E</b>	<b>F</b>