





## Station



### THZE + HZE mit Überschreitung

Rechne jede Aufgabe im Kopf! Verbinde die Aufgabe mit der zugehörigen Lösungszahl. Aus den Kennbuchstaben der richtigen Antworten ergibt sich ein Lösungswort.

**A**  $2384 + 879 =$

- 3153 FA
- 3363 AL
- 3263 BE

**B**  $5127 + 308 =$

- 5453 HE
- 5435 RG
- 5473 MU

**C**  $2837 + 882 =$

- 3719 MA
- 3179 KL
- 3917 RE

**D**  $1779 + 526 =$

- 2305 NN
- 3205 WE
- 2350 ZU

**E**  $5604 + 426 =$

- 6030 PO
- 6130 TA
- 6003 LE

**F**  $1854 + 378 =$

- 2233 FA
- 2252 AS
- 2232 LJ

**G**  $5168 + 927 =$

- 6095 ZI
- 6905 SC
- 6509 RE

**H**  $3877 + 565 =$


- 4452 HE
- 4442 ST
- 4432 VA


**Lösungswort:**

<b>A</b>	<b>B</b>	<b>C</b>	<b>D</b>




**Lösungswort:**


<b>E</b>	<b>F</b>	<b>G</b>	<b>H</b>

 Stationenlernen Mathematik / 4. Schuljahr - Bestell-Nr. 11 398



## Station



### Schriftliche Addition mit Komma

Kreuze die richtig gerundete Zahl an. Aus den Kennbuchstaben der richtigen Lösungen ergibt sich ein Lösungswort.

**A**

	3,3
+	2,2

**H** 5,5  
 **B** 6,5  
 **Z** 7,5

**B**

	8,2
+	1,1

**D** 9,6  
 **A** 9,3  
 **K** 9,9

**C**

	9,0
+	0,9

**P** 9,0  
 **G** 9,5  
 **N** 9,9

**D**

	8,8
+	4,1

**U** 11,9  
 **D** 12,9  
 **S** 13,9

**E**

	7,2
+	5,5

**Q** 12,2  
 **O** 12,5  
 **B** 12,7

**F**

	10,2
+	7,6

**N** 15,8  
 **A** 17,8  
 **R** 19,8

**G**

	11,5
+	12,4

**L** 23,9  
 **F** 18,9  
 **I** 13,9

**H**

	13,2
+	15,5

**W** 8,7  
 **T** 18,7  
 **L** 28,7

**Lösungswort:**

<b>A</b>	<b>B</b>	<b>C</b>	<b>D</b>	<b>E</b>	<b>F</b>	<b>G</b>	<b>H</b>

Mathematik

Seite 1/2

Angaben zu den Urhebern und Lizenzbedingungen der einzelnen Bestandteile dieses Dokuments finden Sie unter <https://www.tutory.de/entdecken/dokument/stationenlernen-mathematik-4-iii>

