





Station



Gleichungen lösen durch Rückwärtsrechnen

Fülle die Rechenkettens aus und bestimme die Zahl im ersten Kästchen. Die Kennbuchstaben bei den richtigen Lösungen ergeben ein Lösungswort.

A Wenn ich eine Zahl durch 6 teile und von dem Ergebnis 25 abziehe, erhalte ich 16.

→ →

L 236

T 252

G 246

B Wenn ich eine Zahl mit 5 malnehme und zu dem Ergebnis 17 addiere, erhalte ich 62.

→ →

O 10

R 9

I 15

C Wenn ich eine Zahl mit 6 malnehme und zu dem Ergebnis 12 addiere, erhalte ich 72.

→ →

A 10

T 12

N 9

D Wenn ich eine Zahl durch 5 teile und von dem Ergebnis 83 subtrahiere, erhalte ich 5.

→ →

N 420

E 460

M 440

E Wenn ich eine Zahl mit 7 malnehme und zu dem Ergebnis 113 addiere, erhalte ich 197.

→ →


M 12

E 14




R 11


Lösungswort:

A	B	C	D	E



Station



Große Zahlen

Schreibe mit Ziffern in die Stellentafel. Die Buchstaben bei den richtigen Lösungen ergeben ein Lösungswort.

A

M	HT	ZT	T	H	Z	E
••	•••	•••	••	•••	•••	•••

M 3 630 658

S 3 530 659

G 3 531 659

B

M	HT	ZT	T	H	Z	E
•••		•••	•••	••		•••

L 6 999 208

A 6 098 208

A 6 099 208

C

M	HT	ZT	T	H	Z	E
•	•••	•••	••	•••	•••	•••

L 1 762 764

W 1 762 864

V 1 752 764

D

M	HT	ZT	T	H	Z	E
•••	•	••	•••	•••	•	•••

Y 5 114 817

P 5 115 907

T 5 115 917

E

M	HT	ZT	T	H	Z	E
•••	•••	•••	•••	••	••	••

O 8 647 230

R 8 547 230

Z 8 647 320

Lösungswort:

A	B	C	D	E

