





Station



Nachbarzehner/-hunderter

Kreuze die richtigen Nachbarzehner bzw. -hunderter an. Aus den Kennbuchstaben der richtigen Lösungen ergibt sich ein Lösungswort.

A

V 690	E 710
B 680 700	F 720
L 720	H 680

C

T 400	P 800
R 600 600	L 700
I 500	T 900

E

O 700	R 900
B 600 800	F 600
S 500	G 300

B


A 950	T 950
N 930 940	K 960
I 940	U 930


D

S 600	V 100
O 500 300	T 400
A 200	R 500




Lösungswort:


	A	B	C	D	E
	<input style="width: 40px; height: 30px; border: 1px solid gray;" type="text"/>	<input style="width: 40px; height: 30px; border: 1px solid gray;" type="text"/>	<input style="width: 40px; height: 30px; border: 1px solid gray;" type="text"/>	<input style="width: 40px; height: 30px; border: 1px solid gray;" type="text"/>	<input style="width: 40px; height: 30px; border: 1px solid gray;" type="text"/>

 Stationenlernen Mathematik / 4. Schuljahr - Bestell-Nr. 11 398



Station



Stellenwerttafel

Kreuze den richtigen Wert an, der in der Stellenwerttafel gegeben ist. Aus den Kennbuchstaben der richtigen Lösungen ergibt sich eine Lösungswort.

	H	Z	E	
A	9	9	9	
B	1	0	1	
C	8	7	8	
D	0	0	1	
E	7	6	9	
F	5	7	3	
G	0	9	9	

A	666	W	999	F	696	U
B	101	L	1	P	111	U
C	778	S	887	K	878	A
D	1	S	101	C	110	T
E	768	I	769	C	978	H
F	357	E	735	D	573	H
G	9	L	99	E	909	N

Lösungswort:

	A	B	C	D	E	F	G
	<input style="width: 40px; height: 30px; border: 1px solid gray;" type="text"/>	<input style="width: 40px; height: 30px; border: 1px solid gray;" type="text"/>	<input style="width: 40px; height: 30px; border: 1px solid gray;" type="text"/>	<input style="width: 40px; height: 30px; border: 1px solid gray;" type="text"/>	<input style="width: 40px; height: 30px; border: 1px solid gray;" type="text"/>	<input style="width: 40px; height: 30px; border: 1px solid gray;" type="text"/>	<input style="width: 40px; height: 30px; border: 1px solid gray;" type="text"/>

Mathematik

Seite 1/2

Angaben zu den Urhebern und Lizenzbedingungen der einzelnen Bestandteile dieses Dokuments finden Sie unter <https://www.tutory.de/entdecken/dokument/stationenlernen-mathematik-4-xvii>

