











Station




Zeitspannen
Gib die entsprechende Uhrzeit an. Die Kennbuchstaben bei den richtigen Lösungen ergeben ein Lösungswort.




<p>A</p>  <p>Wie spät ist es in 3 Stunden und 28 Minuten?</p> <p>12:05 A 12:03 M 12:07 R</p>	<p>B</p>  <p>Wie spät war es vor 1 Stunde und 32 Minuten?</p> <p>13:06 Z 12:04 U 13:02 O</p>	<p>C</p>  <p>Wie spät war es vor 57 Minuten?</p> <p>14:48 S 14:52 R 13:48 L</p>	<p>D</p>  <p>Wie spät ist es in 2 Stunden und 46 Minuten?</p> <p>7:03 B 8:03 K 8:13 P</p>	<p>E</p>  <p>Wie spät ist es in 6 Stunden und 17 Minuten?</p> <p>00:52 A 00:58 E 00:42 N</p>	<p>F</p>  <p>Wie spät war es vor 3 Stunden und 5 Minuten?</p> <p>6:30 O 4:30 W 5:30 U</p>
---	---	--	---	---	--


Lösungswort: **A** **B** **C** **D** **E** **F**

 KOHL Stationenlernen Mathematik / 4. Schuljahr - Bestell-Nr. 11 398

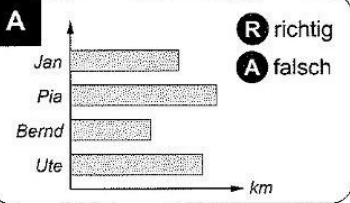

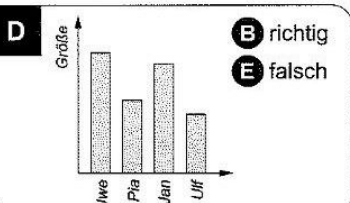
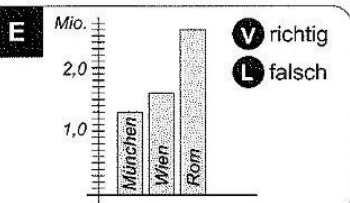


Station




Daten und Diagramme
Sind die Aussagen richtig oder falsch? Kreuze an! Die Kennbuchstaben ergeben ein Lösungswort.

<p>A</p>  <p>R richtig A falsch</p> <p>Jan hat den weitesten Schulweg.</p>	<p>B</p> <table border="1" style="width: 100%; text-align: center;"> <tr> <th>Mädchen</th> <th>Jungen</th> </tr> <tr> <td> </td> <td> </td> </tr> <tr> <td> </td> <td> </td> </tr> <tr> <td> </td> <td> </td> </tr> <tr> <td> </td> <td> </td> </tr> </table> <p>N richtig E falsch</p> <p>In der Jahrgangsstufe 4 sind 89 Kinder.</p>	Mädchen	Jungen									<p>C</p>  <p>G richtig T falsch</p> <p>In der Klasse 4c sind die meisten Kinder.</p>
Mädchen	Jungen											
<p>D</p>  <p>B richtig E falsch</p> <p>Ulf ist größer als Pia.</p>	<p>E</p>  <p>V richtig L falsch</p> <p>München hat mehr Einwohner als Wien.</p>	<p>Lösungswort:</p> <p>A B C D E</p>										

Mathematik

Seite 1/2

Angaben zu den Urhebern und Lizenzbedingungen der einzelnen Bestandteile dieses Dokuments finden Sie unter <https://www.tutory.de/entdecken/dokument/stationenlernen-mathematik-4-xxi>



anonym