





Station

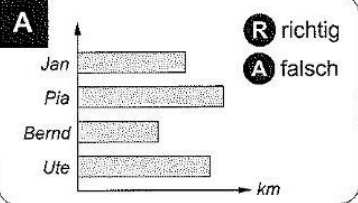






Daten und Diagramme

Sind die Aussagen richtig oder falsch? Kreuze an! Die Kennbuchstaben ergeben ein Lösungswort.

A **R** richtig
A falsch




Jan hat den weitesten Schulweg.

B **N** richtig
E falsch

Mädchen	Jungen

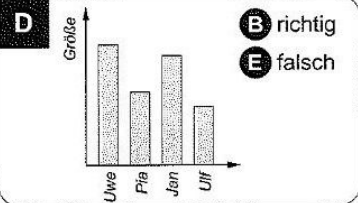
In der Jahrgangsstufe 4 sind 89 Kinder.

C **G** richtig
T falsch



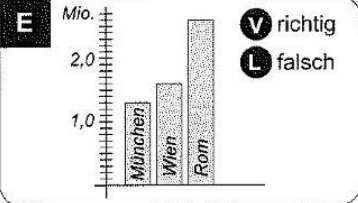
In der Klasse 4c sind die meisten Kinder.

D **B** richtig
E falsch



Ulf ist größer als Pia.


E **V** richtig
L falsch




München hat mehr Einwohner als Wien.




Lösungswort:


A	B	C	D	E

 KOHL Stationenlernen Mathematik / 4. Schuljahr - Bestell-Nr. 11 398



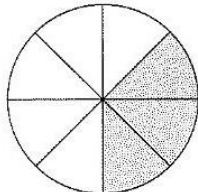
Station



Brüche erkennen

Welcher Bruchteil der Figur ist hier jeweils gekennzeichnet? Kreuze die passende Antwort an. Aus den Kennbuchstaben der richtigen Lösungen ergibt sich ein Lösungswort.

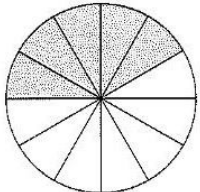


A

M $\frac{2}{3}$

A $\frac{3}{8}$

K $\frac{7}{10}$

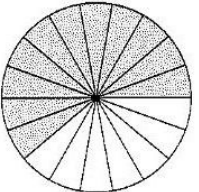


B

Z $\frac{5}{8}$

L $\frac{5}{10}$

N $\frac{5}{12}$

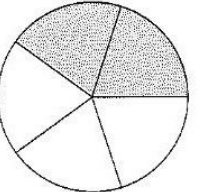


C

K $\frac{11}{18}$

R $\frac{7}{9}$

S $\frac{8}{15}$

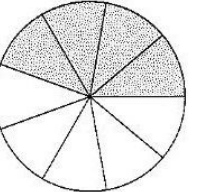


D

E $\frac{2}{5}$

T $\frac{3}{5}$

F $\frac{1}{3}$



E

I $\frac{3}{4}$

R $\frac{4}{9}$

O $\frac{5}{8}$


Lösungswort:

A	B	C	D	E

Mathematik

Seite 1/2

Angaben zu den Urhebern und Lizenzbedingungen der einzelnen Bestandteile dieses Dokuments finden Sie unter <https://www.tutary.de/entdecken/dokument/stationenlernen-mathematik-4-xxii>



anonym

