





Station



Brüche anwenden

Rechne jede Aufgabe im Kopf! Verbinde die Aufgabe mit der zugehörigen Lösungszahl. Aus den Kennbuchstaben der richtigen Antworten ergibt sich ein Lösungswort.

A $\frac{1}{4}$ von 1 km =

<input type="checkbox"/>	400 m	HA
<input type="checkbox"/>	250 m	HO
<input type="checkbox"/>	200 m	BR

B $\frac{1}{5}$ von 2 kg =

<input type="checkbox"/>	1 kg	BL
<input type="checkbox"/>	500 g	RS
<input type="checkbox"/>	400 g	SP

C $\frac{1}{2}$ von 1 cm =

<input type="checkbox"/>	5 mm	IT
<input type="checkbox"/>	2 mm	ET
<input type="checkbox"/>	4 mm	RT

D $\frac{1}{8}$ von 1 t =

<input type="checkbox"/>	100 kg	HU
<input type="checkbox"/>	250 kg	AE
<input type="checkbox"/>	125 kg	AL

E $\frac{1}{3}$ von 6 km =

<input type="checkbox"/>	2 km	BL
<input type="checkbox"/>	3 km	SC
<input type="checkbox"/>	500 m	LE

F $\frac{1}{6}$ von 3 t =

<input type="checkbox"/>	750 kg	HE
<input type="checkbox"/>	400 kg	OT
<input type="checkbox"/>	500 kg	UT

G $\frac{3}{4}$ von 1 g =

<input type="checkbox"/>	750 mg	BA
<input type="checkbox"/>	75 mg	SE
<input type="checkbox"/>	25 mg	HE

H $\frac{5}{8}$ von 1 kg =


<input type="checkbox"/>	725 g	HM
<input type="checkbox"/>	625 g	HN
<input type="checkbox"/>	58 g	WE


Lösungswort:

A	B	C	D





Lösungswort:


E	F	G	H

 KOHL Stationenlernen Mathematik / 4. Schuljahr - Bestell-Nr. 11 398



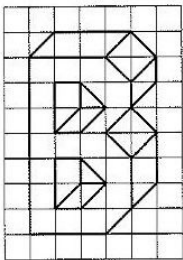
Station

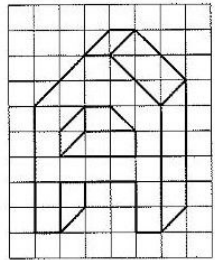





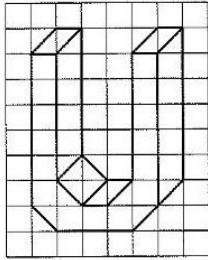


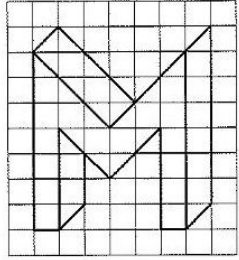
Buchstaben in Gitterfeldern


Übertrage die Buchstaben unten in die freien Gitterfelder! Male das fertige Bild dann in deinen Lieblingsfarben aus!
























Mathematik

Seite 1/2

Angaben zu den Urhebern und Lizenzbedingungen der einzelnen Bestandteile dieses Dokuments finden Sie unter <https://www.tutory.de/entdecken/dokument/stationenlernen-mathematik-4-xxiv>



anonym

