




Station

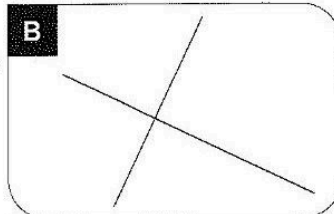
Senkrecht

Entscheide, ob die beiden Geraden senkrecht aufeinander stehen. Die Buchstaben bei den richtigen Lösungen ergeben ein Lösungswort.

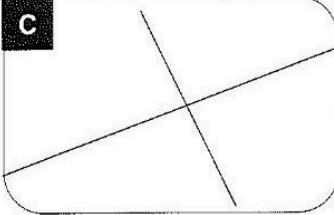
A



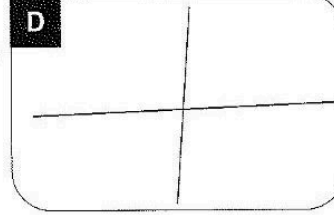
B



C



D



H ja
S nein


H ja
P nein


R ja
O nein

A ja
W nein



A B C C

Lösungswort:

 Stationenlernen Mathematik / 4. Schuljahr - Bestell-Nr. 11 398



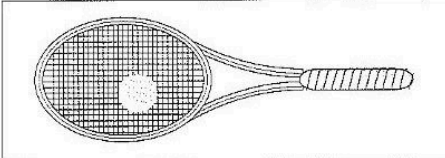
Station


Messen von Längen

Miss die folgenden Gegenstände auf den Abbildungen genau ab. Die Buchstaben der richtigen Lösungen ergeben das Lösungswort.

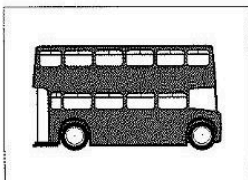
A Tennisschläger




B Motorrad



C Bus



D Fernsehgerät



B 6,0 cm **K** 8,0 cm **S** 10,0 cm

U 1,5 cm
A 2,5 cm
N 3,5 cm

M 4,0 cm
T 6,0 cm
E 8,0 cm

Lösungswort: **A B C D**

Mathematik

Seite 1/2

Angaben zu den Urhebern und Lizenzbedingungen der einzelnen Bestandteile dieses Dokuments finden Sie unter <https://www.tutory.de/entdecken/dokument/stationenlernen-mathematik-4-xxvi>

