


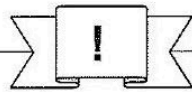


Station

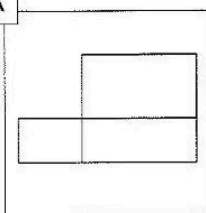






Würfel- und Quadernetze

Was erhältst du, wenn du das Netz vervollständigst: Würfelnetz oder Quadernetz? Kreuze an!
Aus den Kennbuchstaben der richtigen Lösungen ergibt sich ein Lösungswort.

A



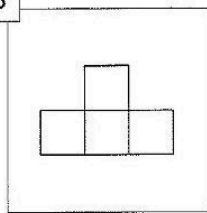
H

 Würfelnetz

L

 Quadernetz

B



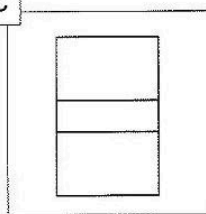
I

 Würfelnetz

L

 Quadernetz

C



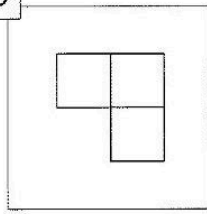
M

 Quadernetz

D

 Würfelnetz

D



O


 Würfelnetz


Z

 Quadernetz




Lösungswort:

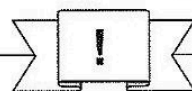
A	B	C	D


 Stationenlernen Mathematik / 4. Schuljahr - Bestell-Nr. 11 398



Station

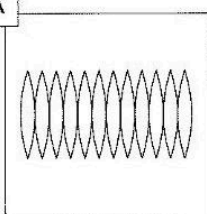






Geometrische Netze

Kreuze an um welche geometrischen Netze es sich handelt. Aus den Kennbuchstaben der richtigen Lösungen ergibt sich ein Lösungswort.

A



F

 Kugelnetz

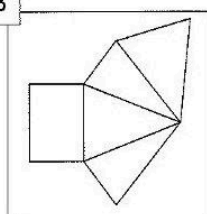
N

 Quadernetz

K

 Kegelnetz

B



E

 Zylindernetz

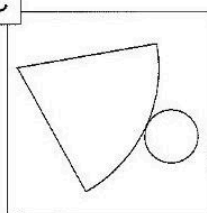
I

 Pyramidennetz

B

 Prismannetz

C



T

 Würfelnetz

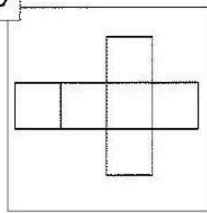
D

 Quadernetz

L

 Kegelnetz

D



M

 Würfelnetz

I

 Zylindernetz

D

 Kegelnetz

Lösungswort:

A	B	C	D

Mathematik

Seite 1/2

Angaben zu den Urhebern und Lizenzbedingungen der einzelnen Bestandteile dieses Dokuments finden Sie unter <https://www.tutory.de/entdecken/dokument/stationenlernen-mathematik-4-xxxiv>

