





Station

Mal mehr, mal weniger
 Rechne zuerst alle Aufgaben aus und schreibe die Lösungen in die grauen Felder. Aus den Kennbuchstaben der richtigen Antworten ergeben sich zwei Lösungswörter.

A 38 mehr als das 5fache von 83 _____	B 93 weniger als das 7fache von 48 _____	C 126 mehr als das 3fache von 275 _____	D 341 weniger als das 4fache von 217 _____
E 58 mehr als das 9fache von 74 _____	F 213 weniger als das 12fache von 98 _____	G 73 mehr als das 4fache von 163 _____	H 66 weniger als das 8fache von 59 _____
I 49 mehr als das 11fache von 25 _____	J 79 weniger als das 5fache von 135 _____	K 165 mehr als das 3fache von 272 _____	L 248 weniger als das 6fache von 194 _____

Lösungen mit Kennbuchstaben


243	324	406	453	527	596
I	A	L	E	B	L
724	725	916	951	963	981
Ä	S	M	S	R	O

Lösungswort 1:





A	B	C	D	E	F

Lösungswort 2:

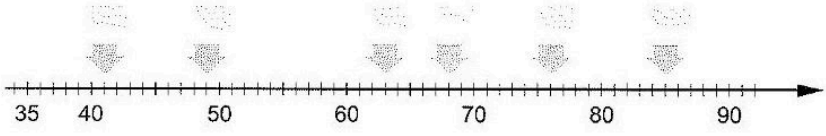
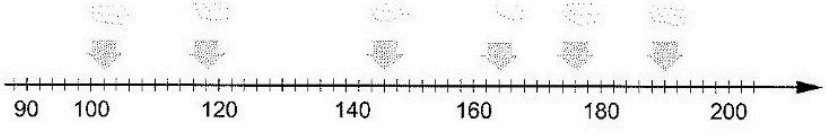
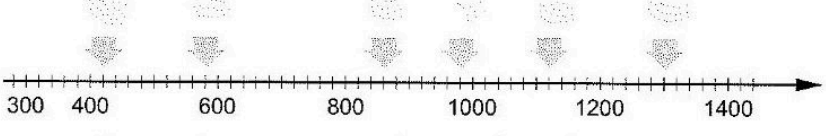
G	H	I	J	K	L



Station

Zahlenstrahl und natürliche Zahlen
 Welche Zahlen sind auf dem Ausschnitt des Zahlenstrahls markiert? Trage in die grauen Kästchen ein.

A	
B	
C	
D	