
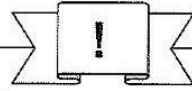



Station

Parallel, senkrecht oder keines von beiden?


Entscheidet, ob die beiden Geraden senkrecht aufeinander stehen oder parallel verlaufen. Die Buchstaben bei den richtigen Lösungen ergeben ein Lösungswort.

A



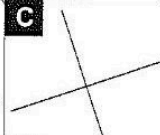
E parallel
K senkrecht
M weder noch

B



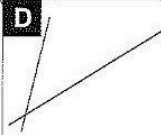
U parallel
X senkrecht
Ü weder noch

C




H parallel
L senkrecht
T weder noch

D




R parallel
L senkrecht
T weder noch

E




I parallel
A senkrecht
W weder noch

F




A parallel
M senkrecht
W weder noch

G




S parallel
U senkrecht
E weder noch

H




D parallel
R senkrecht
S weder noch

I



I parallel
E senkrecht
S weder noch


J





T parallel
R senkrecht
A weder noch

Lösungswort:

A	
B	
C	
D	
E	
F	
G	
H	
I	
J	



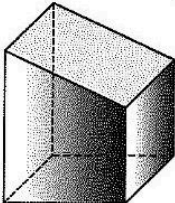
Station

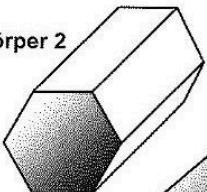
Ecken, Kanten und Flächen von Körpern

Füllt die Tabelle aus.

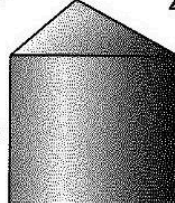
Körper 1



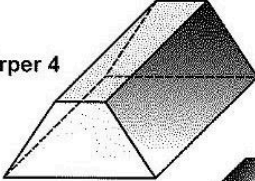
Körper 2



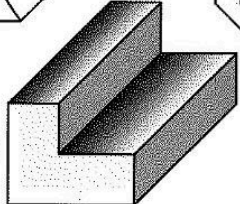
Körper 3



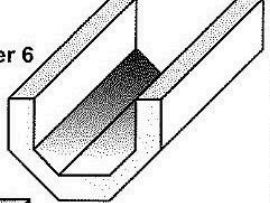
Körper 4



Körper 5



Körper 6



Anzahl	Körper 1	Körper 2	Körper 3	Körper 4	Körper 5	Körper 6
Ecken						
Kanten						
Flächen						

Mathematik

Seite 1/2

Angaben zu den Urhebern und Lizenzbedingungen der einzelnen Bestandteile dieses Dokuments finden Sie unter <https://www.tutory.de/entdecken/dokument/stationenlernen-mathematik-5-xvi>

