






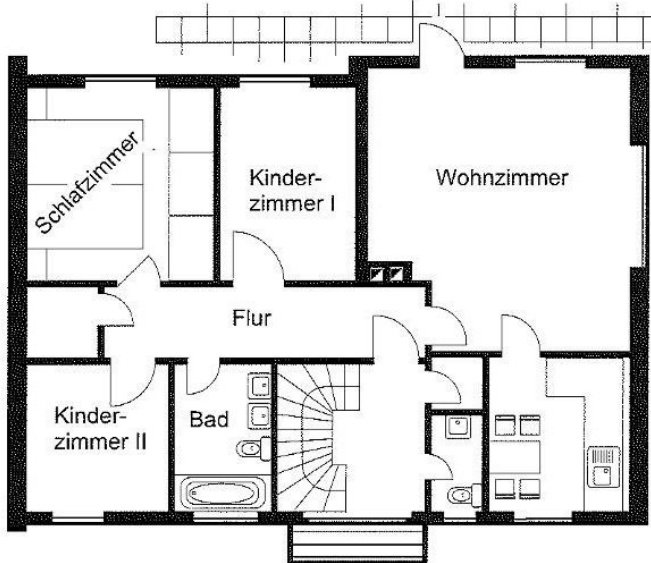
Station




Maßstab




Der Grundriss des Hauses ist im Maßstab 1 : 100 gezeichnet.
Ihr schafft es sicherlich, ein paar Fragen zu beantworten.




- A** Wie lang und wie breit ist das Kinderzimmer I?
- B** Ist das Kinderzimmer I größer oder kleiner als Kinderzimmer II?
- C** Der Flur wird mit Teppichboden ausgelegt. Wie viele m² werden benötigt?
- D** Der Boden des Gäste WC wird mit Kacheln 30 cm x 30 cm gefliest. Wie viele Kacheln werden mindestens benötigt?
- E** An die fensterlose Wand des Wohnzimmers soll eine Schrankwand eingebaut werden. Wie breit kann diese Schrankwand höchstens sein?
- F** Wie breit können die beiden Nachttische werden, wenn die beiden Betten jeweils 1 m breit sind?



Station









Geometrische Körper im Alltag

Kreuze den Körper an, den du in den Abbildungen entdecken kannst. Aus den Kennbuchstaben der richtigen Antworten ergibt sich ein Lösungswort.

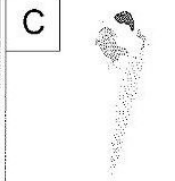
A



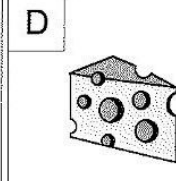
B



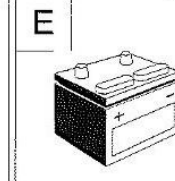
C



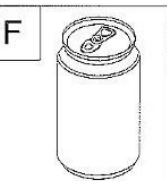
D



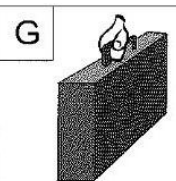
E



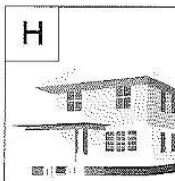
F




G




H



I



J



L Kegel	O Würfel	S Kugel	C Quader	S Quader
N Zylinder	I Kugel	N Kegel	K Prisma	H Würfel
K Kegel	R Quader	A Pyramide	L Quader	O Kegel
D Zylinder	I Würfel	D Kegel	E Pyramide	L Zylinder

Lösungswort:

A	
B	
C	
D	
E	
F	
G	
H	
I	
J	

