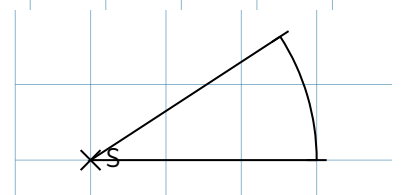
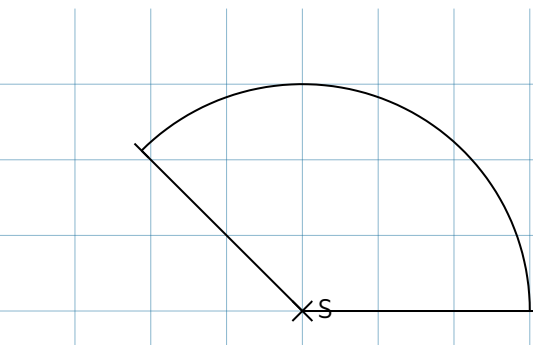
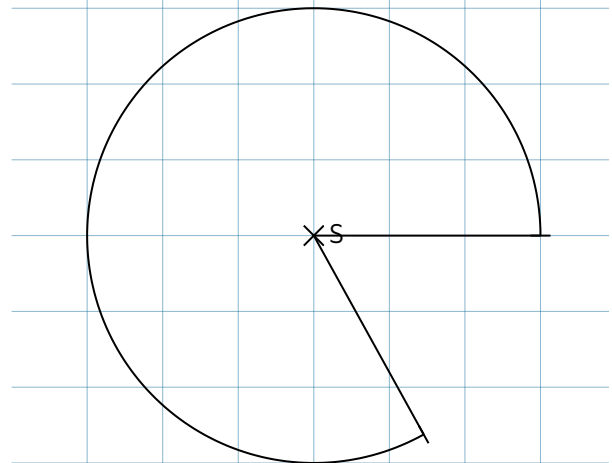
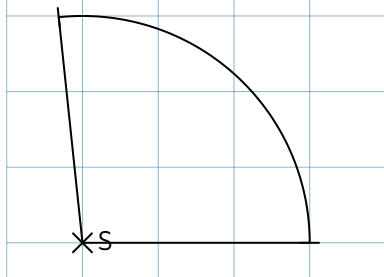
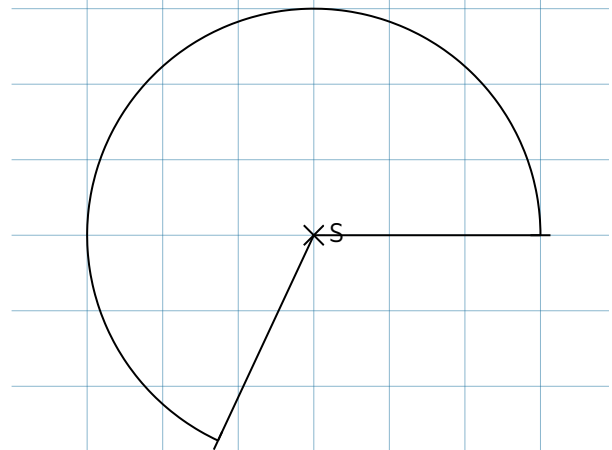
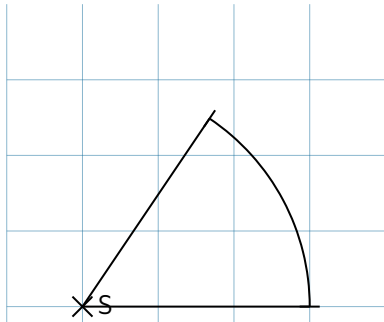


- ① Messe die Größe der jeweiligen Winkel und trage das Ergebnis zu den Winkeln ein. Wie wird der Winkel jeweils bezeichnet?



- ② Zeichne Winkel mit den folgenden Größen. Wie lautet die Bezeichnung dieser Winkel?

a) $\alpha = 39^\circ$ _____

b) $\beta = 90^\circ$ _____

c) $\gamma = 360^\circ$ _____

d) $\delta = 294^\circ$ _____

e) $\epsilon = 180^\circ$ _____