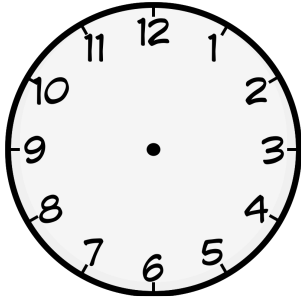



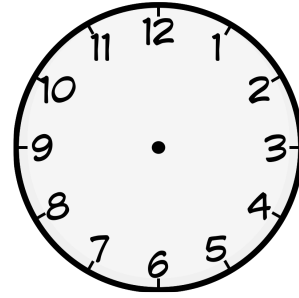
① Zeichne die Zeiger passend zu der Uhrzeit in die Uhren ein.




20:15




07:30



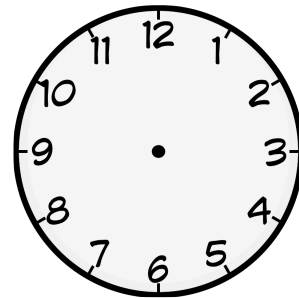
05:45



22:05



12:10

16:35

---

② Fülle den Lückentext aus!

Ein ganzer Tag hat  Stunden.

Eine Stunde hat  Minuten.

Eine Minute hat  Sekunden.

Auf der Uhr findet man zwei Zeiger.

Einen großen Zeiger, welcher  heißt

und einen kleinen Zeiger, welcher

heißt.