





2  Tausche dich jetzt mit deinem Sitznachbarn/deiner Sitznachbarin aus und ergänze eventuell deine Aufzeichnungen.

3  Wie muss man konstruieren, um wie in der Abb. 1 aus dem Dreieck ABC das Dreieck DEF zu erhalten. Zeichne und beschreibe unten, wie du vorgegangen bist.

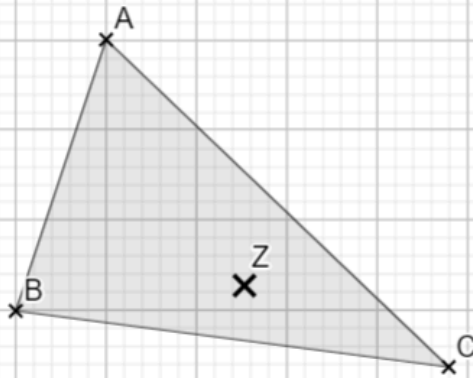


Abbildung 2

