


- ① Bearbeitet die Aufgabe erst alleine.  
Besprecht mit eurem Partner/ eurer Gruppe eure Ergebnisse.

a) Ordnet die Aussagen einem passenden Term zu, indem ihr die Tabelle ausfüllt.



$x:5$

$x+5$

die 5-fache Menge

Er ist 5 Jahre älter

$x-5$

$5x$

$1/5 x$


vor 5 Jahren

**Tipp**

Zwei Terme bleiben über und können nicht zugeordnet werden.

Aussage	passender Term


- ② Löse die Gleichungen erst alleine. Führe anschließend eine Probe durch.  
Vergleiche deine Ergebnisse und deinen Rechenweg mit deinem Partner.



a)  $4x = 16$

b)  $3x + 2x = 25$

c)  $4x + 20 + x = 120$

③ Ihr seid fertig? Kontrolliert eure Lösungen mit der Musterlösung.