


**Sachaufgaben**

**A** Eine fangfrische Forelle kostet 5,83 €. Frau Brat-Hering kauft für ihre Familie drei Forellen. 

**B** Kai überlegt: „Noch 11520 Minuten, dann sind Ferien.“ Wie viele Tage sind es noch bis dahin?

**C** In einem Stall befinden sich Hasen und Hühner. Uwe zählt 54 Beine und 21 Köpfe. Wie viele Hasen sind es, wie viele Hühner?

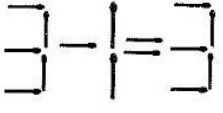
**D** Eine Flasche Rotwein und eine Flasche Weißweinkosten zusammen 12 €. Der Rotwein ist um 4 € teurer als der Weißwein. Was kostet der Rotwein?

**E** Herr und Frau Alt zahlen für eine Ferienwohnung 85 € pro Tag. Die Endreinigung kostet 35 €, die Kurtaxe pro Tag und pro Person 1,20 €. Sie machen 14 Tage Urlaub.

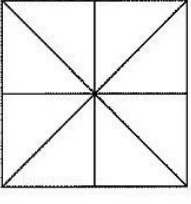
erledigt  kontrolliert

**Spaß mit Knobeln**

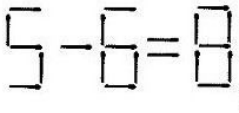
**A** Lege ein Streichholz so um, dass die Rechnung stimmt.



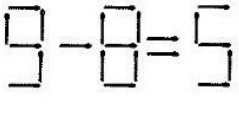
**B** Wie viele Dreiecke kannst du zählen?



**C** Lege zwei Streichhölzer um und die Rechnung stimmt!



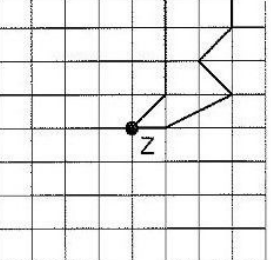
**D** Lege zwei Streichhölzer um und die Rechnung stimmt!

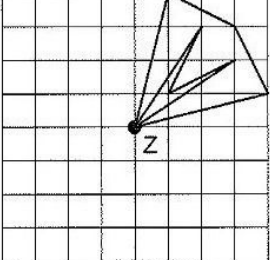


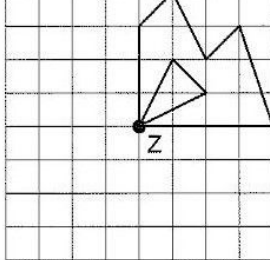
erledigt  kontrolliert

**Drehsymmetrische Figuren**

Drehe die Figuren um den Punkt Z jeweils um 90° entgegen dem Uhrzeigersinn. Du kannst dein Bild farbig ausmalen.

**A** 

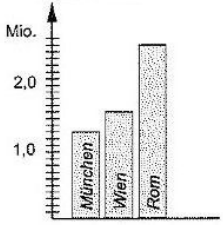
**B** 

**C** 

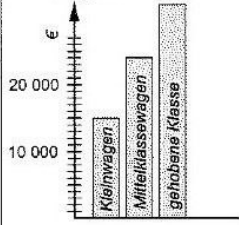
erledigt  kontrolliert

**Daten und Diagramme**

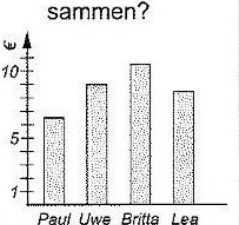
**A** Wie viele Einwohner hat München?



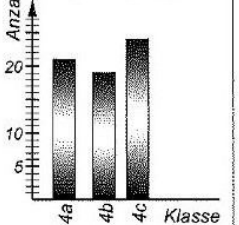
**B** Wie teuer ist der Mittelklassewagen?



**C** Wie viel Taschengeld haben alle Kinder zusammen?



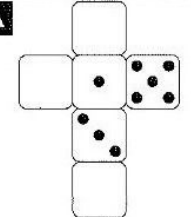
**D** Wie viele Kinder sind in der Klassenstufe 4?

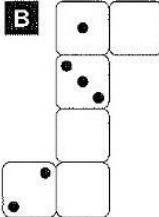


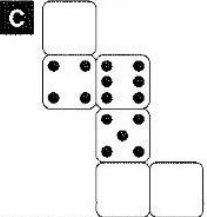
erledigt  kontrolliert

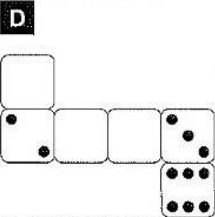
**Ergänzen von Würfelaugen**

Trage die Würfelaugen ein. Du weißt ja, dass die Augen gegenüberliegender Flächen zusammen immer 7 ergeben.

**A** 

**B** 

**C** 

**D** 

erledigt  kontrolliert

