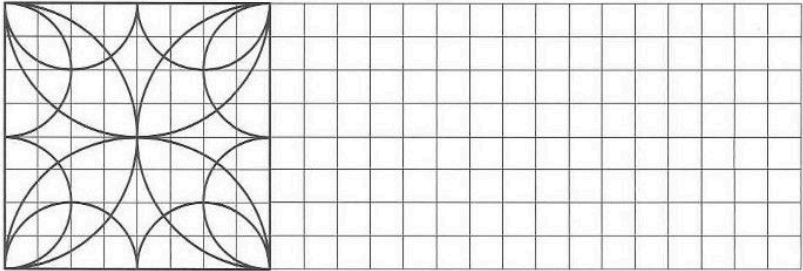


**Zirkelübungen**  
Setze das Muster fort. Du kannst dein Bild farbig anlegen.






erledigt  kontrolliert

**Achsensymmetrische Buchstaben**  
Streiche alle Buchstaben, die nicht achsensymmetrisch gemacht werden können. Welche Buchstaben haben zwei Symmetrieachsen?

A B C D E F G H I J K L M  
N O P Q R S T U V W X Y Z

erledigt  kontrolliert

**Quader- und Würfelnetze**  
Ergänze die unvollständigen Netze.

**A**  **B**  **C** 

erledigt  kontrolliert

**Lauter Kettenaufgaben**  
Übertrage die Kettenaufgaben aus der Tabelle in die freien Felder und rechne sie aus.

+	1370	2092	3219	1519	-
4740	<b>J</b>		<b>B</b>		4971
3753		<b>F</b>	<b>A</b>	<b>D</b>	
1231	<b>G</b>	<b>I</b>			
1745	<b>C</b>	<b>H</b>		<b>E</b>	2284

<b>A</b>	$3753 + 3219 - 4971 =$
<b>B</b>	$4740 + 3219 =$
<b>C</b>	$1745 =$
<b>D</b>	
<b>E</b>	
<b>F</b>	
<b>G</b>	
<b>H</b>	
<b>I</b>	
<b>J</b>	

erledigt  kontrolliert

**Römische Zahlzeichen**  
Die römischen Zahlen sind I = 1; V = 5, X = 10, L = 50, C = 100, D = 500, M = 1000. Schreibe die römischen Zahlzeichen mit unseren arabischen Ziffern.

XXIV =  CVII =  MXX =  MDCCLXIV =   
 LXIX =  CXIV =  CDIV =  MCCCXLVI =   
 CXLV =  MDC =  CCIX =  MDCXXIII =

erledigt  kontrolliert

---

A large grid of graph paper, consisting of 20 columns and 30 rows of small squares, intended for planning or drawing.